


«УТВЕРЖДАЮ»

Директор
ФГБНУ «Федеральный институт
педагогических измерений»
О.А. Решетникова

2019 г.

«СОГЛАСОВАНО»

Председатель
Научно-методического совета
ФГБНУ «ФИПИ» по истории
Е.И. Пивовар

«23» октября 2019 г.

Единый государственный экзамен по ИСТОРИИ**Пояснения к демонстрационному варианту контрольных
измерительных материалов единого государственного экзамена
2020 года по ИСТОРИИ****Единый государственный экзамен по ИСТОРИИ****Демонстрационный вариант
контрольных измерительных материалов единого
государственного экзамена 2020 года
по ИСТОРИИ**подготовлен Федеральным государственным бюджетным
научным учреждением

«ФЕДЕРАЛЬНЫЙ ИНСТИТУТ ПЕДАГОГИЧЕСКИХ ИЗМЕРЕНИЙ»

При ознакомлении с демонстрационным вариантом контрольных измерительных материалов (КИМ) единого государственного экзамена (ЕГЭ) 2020 г. следует иметь в виду, что задания, включённые в него, не отражают всех элементов содержания, которые будут проверяться с помощью вариантов КИМ в 2020 г. Полный перечень элементов содержания, которые могут контролироваться на едином государственном экзамене 2020 г., приведён в кодификаторе элементов содержания и требований к уровню подготовки выпускников образовательных организаций для проведения единого государственного экзамена 2020 г. по истории.

Назначение демонстрационного варианта заключается в том, чтобы дать возможность любому участнику ЕГЭ и широкой общественности составить представление о структуре будущих КИМ, количестве заданий, об их форме и уровне сложности. Приведённые критерии оценки выполнения заданий с развёрнутым ответом, включённые в этот вариант, дают представление о требованиях к полноте и правильности записи развёрнутого ответа.

Эти сведения позволят выпускникам выработать стратегию подготовки к ЕГЭ в 2020 г.

3 Ниже приведён список терминов. Все они, за исключением **двух**, относятся к событиям (явлениям) XIX в.

- 1) *вольные хлебопашцы*; 2) *министерства*; 3) *декабристы*;
4) *третьеиюньский переворот*; 5) *мировые судьи*; 6) *октябристы*.

Найдите и запишите порядковые номера терминов, относящихся к другому историческому периоду.

Ответ:

--	--

4 Запишите термин, о котором идёт речь.
Основная часть территории России, не включённая в опричнину Иваном IV.

Ответ: _____.

5 Установите соответствие между процессами (явлениями, событиями) и фактами, относящимися к этим процессам (явлениям, событиями): к каждой позиции первого столбца подберите соответствующую позицию из второго столбца.

ПРОЦЕССЫ (ЯВЛЕНИЯ, СОБЫТИЯ)

- А) формирование и развитие законодательства Древнерусского государства
Б) реформы Избранной рады
В) проведение политики «просвещённого абсолютизма» в России
Г) первые революционные преобразования большевиков

ФАКТЫ

- 1) созыв Уложенной комиссии
2) принятие Судебника Ивана III
3) созыв первого Земского собора
4) принятие Декрета о земле
5) принятие Русской Правды
6) создание Временного правительства

Запишите в таблицу выбранные цифры под соответствующими буквами.

Ответ:

А	Б	В	Г

6 Установите соответствие между фрагментами исторических источников и их краткими характеристиками: к каждому фрагменту, обозначенному буквой, подберите по две соответствующие характеристики, обозначенные цифрами.

ФРАГМЕНТЫ ИСТОЧНИКОВ	
А)	«Дворы, между коими заключён Парижский трактат... вместе с прочими государями и державами, им союзными... повелели своим полномочным составить... один главный трактат и присоединить к оному как неотдельные части все прочие положения конгресса. ...Герцогство Варшавское, за исключением тех областей и округов, коим в нижеследующих статьях положено иное назначение, навсегда присоединяется к Российской империи. Оно в силу своей конституции будет в неразрывной с Россией связи и во владении его величества императора всероссийского, наследников его и преемников на вечные времена. Его императорское величество предполагает даровать, по своему благоусмотрению, внутреннее устройство сему государству, имеющему состоять под особенным управлением. Его величество сообразно с существующим в рассуждении прочих его титулов обычаем и порядком присвокупит к оным и титул царя (короля) польского».
Б)	«Его королевское величество Свейское уступает сим за себя и своих потомков и наследников свейского престола и королевства Свейского его царскому величеству и его потомкам и наследникам Российского государства в совершенное неприкословное вечное владение и собственность в сей войне, чрез его царское величество оружия от короны Свейской завоёванные провинции: Лифляндию, Эстляндию, Ингерманландию и часть Карелии с дистриктом Выборгского лена. ...Против того же его царское величество обещает в 4 недели по размене ратификаций о сем мирном трактате или прежде, ежели возможно, его королевскому величеству и короне Свейской возвратить... Великое княжество Финляндское...»

ХАРАКТЕРИСТИКИ

- 1) Данный договор был подписан в Берлине.
2) По данному договору Россия получила выход к Балтийскому морю.
3) Данный договор был подписан в Вене.
4) Современником подписания данного договора был А.Л. Ордин-Нащокин.
5) Данный договор был подписан по результатам Северной войны.
6) На территории, присоединённой к России по данному договору, в начале 1830-х гг. произошло крупное восстание.

Запишите в таблицу выбранные цифры под соответствующими буквами.

Ответ:

	Фрагмент А		Фрагмент Б	

7) Что из перечисленного относится к новой экономической политике (1921–1928 гг.)? Выберите три ответа и запишите в таблицу цифры, под которыми они указаны.

- 1) утверждение частной собственности на землю
- 2) введение хозрасчёта на государственных предприятиях
- 3) денационализация тяжёлой промышленности
- 4) появление кредитно-банковской системы и бирж
- 5) отмена государственной монополии внешней торговли
- 6) введение концессий

Ответ:

--	--	--

8) Заполните пропуски в данных предложениях, используя приведённый ниже список пропущенных элементов: для каждого предложения, обозначенного буквой и содержащего пропуск, выберите номер нужного элемента.

- А) _____ конференция «Большой тройки» проходила в 1943 г.
- Б) Один из первых таранов в ночном воздушном бою произвёл советский лётчик _____, сбивший на подступах к Москве вражеский бомбардировщик.
- В) В ходе Курской битвы произошло крупнейшее танковое сражение у _____.

Пропущенные элементы:

- 1) Ялтинская (Крымская)
- 2) Н.Ф. Гастелло
- 3) станция Прохоровка
- 4) Тегеранская
- 5) В.В. Талалихин
- 6) разъезд Дубосеково

Запишите в таблицу выбранные цифры под соответствующими буквами.

Ответ:

А	Б	В

9) Установите соответствие между событиями и участниками этих событий: к каждой позиции первого столбца подберите соответствующую позицию из второго столбца.

СОБЫТИЯ

- А) Ледовое побоище
- Б) Ливонская война
- В) Полтавская битва
- Г) разгром армии П.Н. Врангеля в Крыму

УЧАСТНИКИ

- 1) М.Д. Скобелев
- 2) Андрей Боголюбский
- 3) А.М. Курбский
- 4) Александр Невский
- 5) А.Д. Меншиков
- 6) М.В. Фрунзе

Запишите в таблицу выбранные цифры под соответствующими буквами.

Ответ:

А	Б	В	Г

10) Прочтите отрывок из воспоминаний и напишите фамилию автора.
«Я видел не только бесполезность, но и вред совмещения постов, и я даже ссылаясь: "Представьте моё положение: я критиковал Сталина за совмещение в одном лице двух таких ответственных постов в государстве и в партии, а теперь сам..." Выношу этот вопрос на суд историков. Сказалась моя слабость, а может быть, подтачивал меня внутренний червячок, ослабляя моё сопротивление. Ещё до того, как я стал Председателем Совета Министров СССР, Булганин внёс предложение назначить меня как Первого секретаря ЦК КПСС Главнокомандующим вооружёнными силами. Тем более что в Президиуме ЦК военные вопросы, армия, вооружение относились к моей епархии. Это произошло без публикации в печати и было решено сугубо внутренним образом, на случай войны. Внутри вооружённых сил об этом известили высший командный состав».

Ответ: _____.

- 11** Заполните пустые ячейки таблицы, используя приведённый ниже список пропущенных элементов: для каждого пропуска, обозначенного буквой, выберите номер нужного элемента.

Век	Событие истории России	Событие истории зарубежных стран
XIX в.	_____ (А)	Создание Тройственного союза
_____ (Б)	Начало княжения в Киеве Владимира Мономаха	Третий крестовый поход
_____ (В)	Присоединение Псковской земли к Московскому княжеству	_____ (Г)
XVIII в.	_____ (Д)	_____ (Е)

Пропущенные элементы:

- 1) принятие конституции США
- 2) XVI в.
- 3) гражданская война в Англии
- 4) «стояние» на реке Угре
- 5) присоединение Крыма к Российской империи
- 6) XII в.
- 7) XIV в.
- 8) отмена крепостного права в России
- 9) выступление М. Лютера с 95 тезисами, начало Реформации в Германии

Запишите в таблицу выбранные цифры под соответствующими буквами.

А	Б	В	Г	Д	Е

Ответ:

- 12** Прочтите отрывок из телеграммы военачальника.
- «Все отлично сознавали, что при создавшейся обстановке и при фактическом руководстве и направлении внутренней политики безответственными общественными организациями, а также громадного разлагающего влияния этих организаций на массу армии последнюю воссоздать не удастся, а наоборот, армия как таковая должна развалиться через два-три месяца. И тогда Россия должна будет заключить позорный сепаратный мир, последствия которого были бы для России ужасны. Правительство принимало полумеры, которые, ничего не поправляя, лишь затягивали агонию, и, спасая революцию, не спасало Россию. Между тем завоевания революции можно было спасти лишь путём спасения России, а для этого прежде всего необходимо создать действительную сильную власть и оздоровить тыл. Генерал Корнилов предъявил ряд требований, проведение коих в жизнь затягивалось. При таких условиях генерал Корнилов, не преследуя никаких личных честолюбивых замыслов и опираясь на ясно выраженное сознание всей здоровой части общества и армии, требовавшее скорейшего создания крепкой власти для спасения Родины, а с ней и завоеваний революции, считал необходимыми более решительные меры, кои обеспечили бы водворение порядка в стране...»

Используя отрывок и знания по истории, выберите в приведённом списке три верных суждения.

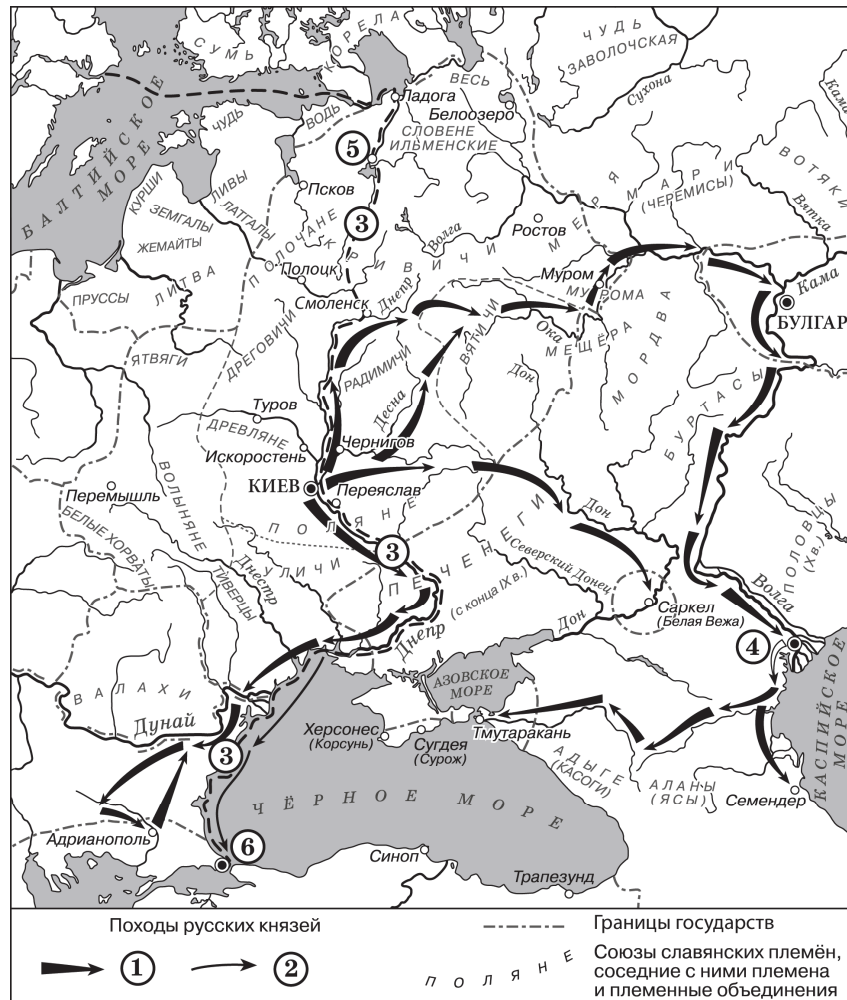
Запишите в таблицу цифры, под которыми они указаны.

- 1) Описанные в телеграмме события произошли в 1916 г.
- 2) Правительство, о котором идёт речь в телеграмме, называлось СНК.
- 3) Автор телеграммы – сторонник продолжения войны с Германией.
- 4) Автор телеграммы поддерживал действия генерала Корнилова.
- 5) Большевики поддерживали действия генерала Корнилова.
- 6) «Решительные меры» генерала Корнилова, которые указаны в телеграмме, не были осуществлены.

Ответ:

--	--	--

Рассмотрите схему и выполните задания 13–16.



13 Укажите век, когда произошли события, обозначенные на схеме стрелками. Ответ запишите словом.

Ответ: _____.

14 Укажите имя князя, походы которого обозначены в легенде схемы цифрой «1».

Ответ: _____.

15 Укажите название торгового пути, трижды обозначенного на схеме цифрой «3».

Ответ: _____.

16 Какие суждения, относящиеся к исторической ситуации, обозначенной на схеме, являются верными? Выберите три суждения из шести предложенных. Запишите в таблицу цифры, под которыми они указаны.

- 1) Цифрой «5» на схеме обозначен город Новгород.
- 2) В ходе событий, обозначенных на схеме стрелками, русское войско взяло город Перемышль.
- 3) В городе, обозначенном на схеме цифрой «6», согласно Повести временных лет принял крещение киевский князь Владимир.
- 4) На схеме обозначен политико-административный центр восточнославянского племенного союза древлян.
- 5) Цифрой «4» на схеме обозначена столица Волжской Булгарии.
- 6) Киевский князь Олег совершил поход, обозначенный в легенде схемы цифрой «2».

Ответ:

--	--	--

17 Установите соответствие между памятниками культуры и их краткими характеристиками: к каждой позиции первого столбца подберите соответствующую позицию из второго столбца.

ПАМЯТНИКИ КУЛЬТУРЫ	ХАРАКТЕРИСТИКИ
А) «Слово о полку Игореве»	1) Автор – И.Е. Репин.
Б) «Домострой»	2) Произведение было написано в период руководства СССР Л.И. Брежнева.
В) картина «Боярыня Морозова»	3) Автор – священник Сильвестр.
Г) роман «Тихий Дон»	4) Описываемые события произошли в XII в.
	5) Автору была присуждена Нобелевская премия.
	6) Сюжет иллюстрирует события церковного раскола.

Запишите в таблицу выбранные цифры под соответствующими буквами.

Ответ:

А	Б	В	Г

Рассмотрите изображение и выполните задания 18, 19.




18) Какие суждения о данной марке являются верными? Выберите два суждения из пяти предложенных. Запишите в таблицу **цифры**, под которыми они указаны.

- 1) Военачальник, изображённый на марке, подвергся репрессиям.
- 2) Военачальник, изображённый на марке, родился в период правления в России Николая II.
- 3) События, изображённые на марке стрелками, произошли в ходе Первой мировой войны.
- 4) Военачальник, изображённый на марке, был участником Великой Отечественной войны.
- 5) Данная марка была выпущена в период руководства СССР Н.С. Хрущёва.

Ответ:

19) Какие из представленных монет посвящены юбилеям событий, произошедших при жизни военачальника, изображённого на марке? В ответе запишите **две цифры**, которыми обозначены эти монеты.



Ответ:



Не забудьте перенести все ответы в бланк ответов № 1 в соответствии с инструкцией по выполнению работы. Проверьте, чтобы каждый ответ был записан в строке с номером соответствующего задания.

Часть 2

Для записи ответов на задания этой части (20–25) используйте БЛАНК ОТВЕТОВ № 2. Запишите сначала номер задания (20, 21 и т. д.), а затем развёрнутый ответ на него. Ответы записывайте чётко и разборчиво.

Прочтите отрывок из исторического источника и кратко ответьте на вопросы 20–22. Ответы предполагают использование информации из источника, а также применение исторических знаний по курсу истории соответствующего периода.

Прочтите отрывок из воспоминаний политического деятеля.

«Второй Съезд народных депутатов СССР по накалу страстей, митинговой активности депутатов мало чем отличался от первого, но всё же накопленный опыт, подготовительная работа позволили придать ему большую организованность и деловитость...

За две недели Съезд заслушал и обсудил доклад Рыжкова о мерах по оздоровлению экономики, этапах экономической реформы и принципиальных подходах к разработке тринадцатого пятилетнего плана, принял Закон об изменениях и дополнениях Конституции по вопросам избирательной системы в связи с предстоящими выборами народных депутатов в республиках и на местах...

...К тому моменту активная позиция в реформировании и оздоровлении экономики была в значительной степени утрачена: не выработанная центром стратегия задавала тон, а, наоборот, планы и действия центра приноравливались к спонтанным экономическим процессам и популистским требованиям. Программа экономических реформ 1987 года фактически оказалась похороненной, о ней вспоминали всё реже. Главное же, был выпущен из рук контроль за наличной денежной массой, за денежными доходами населения, дан сильнейший толчок раскручиванию инфляционной спирали, остановить который дальше оказалось всё труднее.

Доклад Правительства подвергся на Съезде ожесточённой критике, и не только со стороны оппозиционно настроенных депутатов. [Руководитель страны], естественно, защищал его. Началась очень трудная для Правительства полоса. В печати, на съездах и сессиях Верховного Совета постоянно маячил вопрос об отставке Правительства... Но главное, конечно, накатывающиеся волны забастовочного движения, вызываемые прежде всего дезорганизацией рынка, товарного и денежного обращения, острой нехваткой самого необходимого для людей...

Работа Съезда была омрачена кончиной [выдающегося исторического деятеля]. 15 декабря не стало этого выдающегося, неповторимого человека. Огромная потеря не только для науки, но и для человеческой цивилизации в целом, для демократического процесса в стране. Об этом я говорю с полной ответственностью и откровенностью, несмотря на то, а может быть, именно поэтому, что академик стоял в оппозиции к тогдашнему партийно-государственному руководству, оказывал лишь, как он сам говорил,

условную поддержку [руководителю страны], не спуская ему ни одного, с его точки зрения, ошибочного или опрометчивого шага».

20 Укажите название периода истории СССР, о событиях которого идёт речь в данном отрывке. Укажите руководителя СССР в этот период. Укажите исторического деятеля, о смерти которого идёт речь в отрывке.

21 Какие факты, свидетельствующие о наступлении социально-экономического и политического кризиса в стране, называет автор? Укажите любые три факта.
При ответе избегайте цитирования избыточного текста, не содержащего положений, которые должны быть приведены по условию задания.

22 Укажите название партийного органа, созданного впервые после 1941 г., в решениях которого были заложены основы преобразований политической системы страны. Какие политические решения были приняты следующим после названного в отрывке Съездом народных депутатов? Укажите два решения.

23 Процесс политической раздробленности русских земель в XII–XIII вв. сопровождался упадком роли и значения земель Среднего Поднепровья – исторического ядра Древнерусского государства – в политической и экономической жизни Руси. Назовите любые три причины этого упадка.

24 По историческим вопросам высказываются различные, часто противоречивые точки зрения. Ниже приведена одна из противоречивых точек зрения.

«Внутренняя политика Александра III способствовала прогрессивному развитию социальной и экономической сфер общественной жизни».

Используя исторические знания, приведите два аргумента, которыми можно подтвердить данную точку зрения, и два аргумента, которыми можно опровергнуть её. При изложении аргументов обязательно используйте исторические факты.

Ответ запишите в следующем виде.

Аргументы в подтверждение:

1) ...

2) ...

Аргументы в опровержение:

1) ...

2) ...

25

Вам необходимо написать историческое сочинение об ОДНОМ из периодов истории России:

1) 1019–1054 гг.; 2) март 1801 г. – май 1812 г.; 3) октябрь 1917 г. – октябрь 1922 г.

В сочинении необходимо:

- указать не менее двух значимых событий (явлений, процессов), относящихся к данному периоду истории;
- назвать две исторические личности, деятельность которых связана с указанными событиями (явлениями, процессами), и, используя знание исторических фактов, охарактеризовать роли названных Вами личностей в этих событиях (явлениях, процессах);

В н и м а н и е!

При характеристике роли каждой названной Вами личности необходимо указать конкретные действия этой личности, в значительной степени повлиявшие на ход и (или) результат указанных событий (процессов, явлений).

- указать не менее двух причинно-следственных связей, характеризующих причины возникновения событий (явлений, процессов), происходивших в данный период;
- используя знание исторических фактов и (или) мнений историков, оценить влияние событий (явлений, процессов) данного периода на дальнейшую историю России.

В ходе изложения необходимо корректно использовать исторические термины, понятия, относящиеся к данному периоду.



Проверьте, чтобы каждый ответ был записан рядом с номером соответствующего задания.

Система оценивания экзаменационной работы по истории

Часть 1

Задание с кратким ответом считается выполненным верно, если правильно указаны требуемое слово (словосочетание), последовательность цифр.

Полный правильный ответ на каждое из заданий 1, 4, 10, 13–15, 18, 19 оценивается 1 баллом; неполный, неверный ответ или его отсутствие – 0 баллов.

Полный правильный ответ на каждое из заданий 2, 3, 5–9, 12, 16, 17 оценивается 2 баллами; если допущена одна ошибка – 1 баллом; если допущено две и более ошибки или ответ отсутствует – 0 баллов.

Полный правильный ответ на задание 11 оценивается 3 баллами; если допущена одна ошибка – 2 баллами; если допущено две-три ошибки – 1 баллом; если допущено четыре и более ошибки или ответ отсутствует – 0 баллов.

Номер задания	Правильный ответ
1	321
2	2643
3	46
4	земщина
5	5314
6	3625
7	246
8	453
9	4356
10	Хрущёв; Хрущев
11	862951
12	346
13	десятый
14	Святослав
15	из варяг в греки
16	146
17	4365
18	15
19	34

Часть 2**Критерии оценивания выполнения заданий с развёрнутым ответом**

Прочтите отрывок из воспоминаний политического деятеля.

«Второй Съезд народных депутатов СССР по накалу страстей, митинговой активности депутатов мало чем отличался от первого, но всё же накопленный опыт, подготовительная работа позволили придать ему большую организованность и деловитость...

За две недели Съезд заслушал и обсудил доклад Рыжкова о мерах по оздоровлению экономики, этапах экономической реформы и принципиальных подходах к разработке тринадцатого пятилетнего плана, принял Закон об изменениях и дополнениях Конституции по вопросам избирательной системы в связи с предстоящими выборами народных депутатов в республиках и на местах...

...К тому моменту активная позиция в реформировании и оздоровлении экономики была в значительной степени утрачена: не выработанная центром стратегия задавала тон, а, наоборот, планы и действия центра приравнивались к спонтанным экономическим процессам и популистским требованиям. Программа экономических реформ 1987 года фактически оказалась похороненной, о ней вспоминали всё реже. Главное же, был выпущен из рук контроль за наличной денежной массой, за денежными доходами населения, дан сильнейший толчок раскручиванию инфляционной спирали, остановить который дальше оказалось всё труднее.

Доклад Правительства подвергся на Съезде ожесточённой критике, и не только со стороны оппозиционно настроенных депутатов. [Руководитель страны], естественно, защищал его. Началась очень трудная для Правительства полоса. В печати, на съездах и сессиях Верховного Совета постоянно маячил вопрос об отставке Правительства... Но главное, конечно, накатывающие волны забастовочного движения, вызываемые прежде всего дезорганизацией рынка, товарного и денежного обращения, острой нехваткой самого необходимого для людей...

Работа Съезда была омрачена кончиной [выдающегося исторического деятеля]. 15 декабря не стало этого выдающегося, неповторимого человека. Огромная потеря не только для науки, но и для человеческой цивилизации в целом, для демократического процесса в стране. Об этом я говорю с полной ответственностью и откровенностью, несмотря на то, а может быть, именно поэтому, что академик стоял в оппозиции к тогдашнему партийно-государственному руководству, оказывал лишь, как он сам говорил, условную поддержку [руководителю страны], не спуская ему ни одного, с его точки зрения, ошибочного или опрометчивого шага».

20

Укажите название периода истории СССР, о событиях которого идёт речь в данном отрывке. Укажите руководителя СССР в этот период. Укажите исторического деятеля, о смерти которого идёт речь в отрывке.

Содержание верного ответа и указания по оцениванию (допускаются иные формулировки ответа, не искажающие его смысла)	Баллы
Правильный ответ должен содержать следующие <u>элементы</u> : 1) <u>период</u> – «перестройка»; 2) <u>руководитель СССР</u> – М.С. Горбачёв; 3) <u>исторический деятель</u> – А.Д. Сахаров. <i>Каждый элемент может быть засчитан только при условии отсутствия неверных позиций наряду с верной</i>	
Правильно указаны название периода, руководитель СССР, исторический деятель	2
Правильно указаны любые два элемента ответа	1
Правильно указан один любой элемент ответа. ИЛИ Ответ неправильный	0
<i>Максимальный балл</i>	2

21

Какие факты, свидетельствующие о наступлении социально-экономического и политического кризиса в стране, называет автор? Укажите любые три факта.

При ответе избегайте цитирования избыточного текста, не содержащего положений, которые должны быть приведены по условию задания.

Содержание верного ответа и указания по оцениванию (допускаются иные формулировки ответа, не искажающие его смысла)	Баллы
Правильный ответ может содержать следующие <u>факты</u> : 1) Правительство утратило активную позицию в реформировании и оздоровлении экономики (программа экономической реформы 1987 г. провалилась); 2) Правительство потеряло контроль над ростом денежной массы и инфляцией; 3) доклад Правительства на Съезде подвергся критике не только со стороны оппозиции; 4) в прессе поднимался вопрос об отставке Правительства; 5) росло забастовочное движение; 6) наблюдалась дезорганизация рынка, товарного и денежного обращения; 7) нарастал дефицит товаров первой необходимости. Ответ может быть представлен как в форме цитат, так и в форме сжатого воспроизведения основных идей соответствующих фрагментов текста.	

Поскольку в задании требуется найти в тексте данную в явном виде конкретную информацию, не засчитывается при оценивании переписанный целиком объёмный отрывок текста, включающий наряду с верным элементом избыточную информацию	
Правильно указаны три факта	2
Правильно указаны два факта	1
Правильно указан один факт. ИЛИ Ответ неправильный	0
<i>Максимальный балл</i>	2

- 22** Укажите название партийного органа, созданного впервые после 1941 г., в решениях которого незадолго до описываемых событий были заложены основы преобразований политической системы страны. Какие политические решения были приняты следующим после названного в отрывке Съездом народных депутатов? Укажите любые два решения.

Содержание верного ответа и указания по оцениванию (допускаются иные формулировки ответа, не искажающие его смысла)	Баллы
Правильный ответ должен содержать следующие <u>элементы</u> : 1) <u>партийный орган</u> – XIX партконференция (партконференция); 2) <u>решения</u> , например: – введение поста Президента СССР; – избрание Президентом СССР М.С. Горбачёва; – избрание Председателем Верховного Совета СССР А.И. Лукьянова; – внесение поправок в Конституцию СССР, отменивших однопартийную систему в стране. Могут быть указаны другие решения	
Правильно указаны партийный орган и два решения	2
Правильно указаны партийный орган и одно решение. ИЛИ Правильно указаны два решения	1
Правильно указан только партийный орган. ИЛИ Правильно указано только одно решение. ИЛИ Ответ неправильный	0
<i>Максимальный балл</i>	2

- 23** Процесс политической раздробленности русских земель в XII–XIII вв. сопровождался упадком роли и значения земель Среднего Поднепровья – исторического ядра Древнерусского государства – в политической и экономической жизни Руси. Назовите любые три причины этого упадка.

Содержание верного ответа и указания по оцениванию (допускаются иные формулировки ответа, не искажающие его смысла)	Баллы
Могут быть названы следующие <u>причины</u> : 1) борьба между князьями за великое киевское княжение разоряла эти земли; 2) из-за угрозы со стороны кочевников и ослабления Византии пришла в упадок торговля по пути «из варяг в греки»; 3) в условиях раздробленности разрушалась система оборонительных линий, созданных князем Владимиром Святославичем для защиты этих земель; 4) в междоусобной борьбе князья привлекали на свою сторону кочевников, отчего в первую очередь страдали южные земли; 5) из-за угрозы набегов кочевников происходил отток населения из Среднего Поднепровья. Могут быть названы другие причины	
Правильно названы три причины	3
Правильно названы две причины	2
Правильно названа только одна причина	1
Приведены рассуждения общего характера, не соответствующие требованию задания. ИЛИ Ответ неправильный	0
<i>Максимальный балл</i>	3

24 По историческим вопросам высказываются различные, часто противоречивые точки зрения. Ниже приведена одна из противоречивых точек зрения.

«Внутренняя политика Александра III способствовала прогрессивному развитию социальной и экономической сфер общественной жизни».

Используя исторические знания, приведите два аргумента, которыми можно подтвердить данную точку зрения, и два аргумента, которыми можно опровергнуть её. При изложении аргументов обязательно используйте исторические факты.

Ответ запишите в следующем виде.

Аргументы в подтверждение:

- 1) ...
- 2) ...

Аргументы в опровержение:

- 1) ...
- 2) ...

Содержание верного ответа и указания по оцениванию (допускаются иные формулировки ответа, не искажающие его смысла)	Баллы
<p>Правильный ответ должен содержать <u>аргументы</u>:</p> <p>1) в <u>подтверждение</u>, например:</p> <ul style="list-style-type: none"> – при Александре III в деревне постепенно изживались остатки крепостничества (снижение выкупных платежей, ликвидация временнообязанного состояния крестьян); – при Александре III постепенно менялась устаревшая система налогообложения (отмена подушной подати); – в 1882 г. правительство учредило Крестьянский поземельный банк, который выдавал ссуды на покупку земли крестьянам, что способствовало распространению частной поземельной собственности среди крестьян; – в период правления Александра III начало формироваться рабочее законодательство (законы об ограничении труда подростков и женщин на производстве, о правилах найма и увольнения рабочих); – протекционистская политика правительства Александра III способствовала бурному развитию промышленности (завершился промышленный переворот, в 2 раза выросло количество паровых двигателей, увеличилась добыча угля и нефти, в ряде регионов страны выросли крупные промышленные центры (Баку, Юзовка, Ижевск, Орехово-Зуево) и др.); – в период правления Александра III отмечен интенсивный рост протяжённости железных дорог, начато строительство Транссибирской магистрали; 	

<p>2) в <u>опровержение</u>, например:</p> <ul style="list-style-type: none"> – законодательство Александра III в отношении земств резко снизило долю не дворян в их составе, сузив таким образом социальную базу земств; – по новому «Городовому положению» был значительно повышен имущественный ценз для участия в выборах в городские думы; таким образом, от участия в городском самоуправлении были отстранены не только трудящиеся массы города, но и мелкая буржуазия, что вступало в противоречие с быстрым процессом урбанизации, проходившим в тот период; – изменения в системе образования (подчинение сельских школ Синоду, циркуляр «о кухаркиных детях») резко сузили возможности для получения образования выходцам из низших сословий и препятствовали удовлетворению нужд быстрорастущей российской экономики в образованных специалистах; – при Александре III был учреждён Дворянский земельный банк, который выдавал ссуды помещикам под залог их земель на льготных условиях; поддержка дворян, которые, как правило, «проедали» выданные банком деньги, а не вкладывали их в производство, тормозила процесс перехода помещичьих земель к состоятельным крестьянам, эффективнее использовавшим сельскохозяйственные угодья; – законодательство Александра III консервировало крестьянскую общину (запрещались семейные разделы, и ограничивался досрочный выкуп наделов), что тормозило развитие деревни. <p>Могут быть приведены другие аргументы</p>	
Приведены два аргумента в подтверждение и два в опровержение оценки	4
Приведены два аргумента в подтверждение и один в опровержение оценки. ИЛИ Приведены один аргумент в подтверждение и два в опровержение оценки	3
Приведены один аргумент в подтверждение и один в опровержение оценки	2
Приведены только два аргумента в подтверждение оценки. ИЛИ Приведены только два аргумента в опровержение оценки	1
Приведён только один любой аргумент. ИЛИ Приведены только факты, иллюстрирующие события (явления, процессы), связанные с данной точкой зрения, но не являющиеся аргументами. ИЛИ Приведены рассуждения общего характера, не соответствующие требованию задания. ИЛИ Ответ неправильный	0
<i>Максимальный балл</i>	<i>4</i>

25 Вам необходимо написать историческое сочинение об ОДНОМ из периодов истории России:

1) 1019–1054 гг.; 2) март 1801 г. – май 1812 г.; 3) октябрь 1917 г. – октябрь 1922 г.

В сочинении необходимо:

- указать не менее двух значимых событий (явлений, процессов), относящихся к данному периоду истории;
- назвать две исторические личности, деятельность которых связана с указанными событиями (явлениями, процессами), и, используя знание исторических фактов, охарактеризовать роли названных Вами личностей в этих событиях (явлениях, процессах);

Внимание!

При характеристике роли каждой названной Вами личности необходимо указать конкретные действия этой личности, в значительной степени повлиявшие на ход и (или) результат указанных событий (процессов, явлений).

- указать не менее двух причинно-следственных связей, характеризующих причины возникновения событий (явлений, процессов), происходивших в данный период;
- используя знание исторических фактов и (или) мнений историков, оценить влияние событий (явлений, процессов) данного периода на дальнейшую историю России.

В ходе изложения необходимо корректно использовать исторические термины, понятия, относящиеся к данному периоду.

В случае, когда исторические события (явления, процессы) не указаны или все указанные исторические события (явления, процессы) не относятся к выбранному периоду, ответ оценивается **0 баллов** (по каждому из критериев К1–К7 выставляется 0 баллов).

№	Критерии оценивания	Баллы
К1	Указание событий (явлений, процессов)	2
	Правильно указаны два события (явления, процесса)	2
	Правильно указано одно событие (явление, процесс)	1
	События (явления, процессы) не указаны или указаны неверно	0
К2	Исторические личности и их роль в указанных событиях (явлениях, процессах) данного периода истории	2
	Правильно названы две исторические личности; правильно охарактеризована роль каждой из этих личностей с указанием их конкретных действий, в значительной степени повлиявших на ход и (или) результат названных событий (явлений, процессов) рассматриваемого периода истории России	2
	Правильно названы одна-две исторические личности; правильно охарактеризована роль только одной личности с указанием её конкретных действий (или конкретного действия), в значительной степени повлиявших на ход и (или) результат названных событий (явлений, процессов) рассматриваемого периода истории России (или одного события (явления, процесса))	1
К3	Правильно названы одна-две исторические личности, роль каждой из них в указанных событиях (явлениях, процессах) данного периода истории России не охарактеризована / охарактеризована неправильно. ИЛИ Правильно названы одна-две исторические личности; при характеристике роли каждой из них в указанных событиях (явлениях, процессах) данного периода истории России приведены рассуждения общего характера без указания их конкретных действий, в значительной степени повлиявших на ход и (или) результат названных событий (явлений, процессов) рассматриваемого периода истории России. ИЛИ Исторические личности названы неверно. ИЛИ Исторические личности не названы	0
	Причинно-следственные связи <i>По данному критерию не засчитываются причинно-следственные связи, названные при указании роли личности и засчитанные по критерию К2</i>	2
	Правильно указаны две причинно-следственные связи,	2

	характеризующие причины возникновения событий (явлений, процессов), происходивших в данный период	
	Правильно указана одна причинно-следственная связь, характеризующая причину возникновения событий (явлений, процессов), происходивших в данный период	1
	Причинно-следственные связи указаны неверно / не указаны	0
	Оценка влияния событий (явлений, процессов) данного периода на дальнейшую историю России	1
К4	Дана оценка влияния событий (явлений, процессов) данного периода на дальнейшую историю России с опорой на исторические факты и (или) мнения историков	1
	Оценка влияния событий (явлений, процессов) данного периода на дальнейшую историю России сформулирована в общей форме или на уровне обобщенных представлений, без привлечения исторических фактов и (или) мнений историков. ИЛИ Оценка влияния событий (явлений, процессов) данного периода на дальнейшую историю России не дана	0
	Использование исторической терминологии	1
К5	При изложении корректно использована историческая терминология	1
	Все исторические термины, понятия использованы некорректно. ИЛИ Исторические термины, понятия не использованы	0
	Наличие фактических ошибок. <i>1, 2 или 3 балла по критерию К6 может быть выставлено только в случае, если по критериям К1–К4 выставлено в сумме не менее 5 баллов</i>	3
К6	В историческом сочинении отсутствуют фактические ошибки	3
	Допущена одна фактическая ошибка	2
	Допущено две фактические ошибки	1
	Допущено три или более фактические ошибки	0
К7	Форма изложения. <i>1 балл по критерию К7 может быть выставлен только в случае, если по критериям К1–К4 выставлено в сумме не менее 5 баллов</i>	1
	Ответ представлен в виде исторического сочинения (последовательное, связанное изложение материала)	1
	Ответ представлен в виде отдельных отрывочных положений	0
<i>Максимальный балл</i>		12

В соответствии с Порядком проведения государственной итоговой аттестации по образовательным программам среднего общего образования (приказ Минпросвещения России и Рособрнадзора от 07.11.2018 № 190/1512, зарегистрирован Минюстом России 10.12.2018 № 52952)

«82. <...> По результатам первой и второй проверок эксперты независимо друг от друга выставляют баллы за каждый ответ на задания экзаменационной работы ЕГЭ с развёрнутым ответом. <...>

В случае существенного расхождения в баллах, выставленных двумя экспертами, назначается третья проверка. Существенное расхождение в баллах определено в критериях оценивания по соответствующему учебному предмету.

Эксперту, осуществляющему третью проверку, предоставляется информация о баллах, выставленных экспертами, ранее проверявшими экзаменационную работу».

Существенными считаются следующие расхождения.

1. Расхождение в баллах, выставленных двумя экспертами за выполнение любого из заданий 20–24, составляет 2 или более балла. В этом случае третий эксперт проверяет только те ответы на задания (из заданий 20–24), которые были оценены со столь существенным расхождением.

2. Расхождение между суммами баллов, выставленных двумя экспертами за выполнение задания 25 по всем (семи) позициям оценивания выполнения данного задания, составляет 5 или более баллов. В этом случае третий эксперт выставляет баллы по всем семи позициям оценивания выполнения задания 25.

3. Расхождение в баллах, выставленных двумя экспертами за выполнение задание 25 по любому из критериев К1–К3, К6 составляет 2 или более балла. В этом случае третий эксперт выставляет баллы по всем критериям оценивания выполнения задания 25.

4. Расхождения в баллах, выставленных двумя экспертами, выявлены по любым четырём или более позициям оценивания ответа на задание 25. В этом случае третий эксперт выставляет баллы по всем позициям оценивания выполнения задания 25.