

«УТВЕРЖДАЮ»

Директор  
ФГБНУ «Федеральный институт  
педагогических измерений»



О.А. Решетникова  
« 27 » октября 2021 г.

«СОГЛАСОВАНО»

Председатель  
Научно-методического совета  
ФГБНУ «ФИПИ» по географии

К.В. Чистяков  
« 27 » октября 2021 г.

## Единый государственный экзамен по ГЕОГРАФИИ

### Демонстрационный вариант контрольных измерительных материалов единого государственного экзамена 2022 года по ГЕОГРАФИИ

подготовлен федеральным государственным бюджетным  
научным учреждением

«ФЕДЕРАЛЬНЫЙ ИНСТИТУТ ПЕДАГОГИЧЕСКИХ ИЗМЕРЕНИЙ»

## Единый государственный экзамен по ГЕОГРАФИИ

### Пояснения к демонстрационному варианту контрольных измерительных материалов единого государственного экзамена 2022 года по ГЕОГРАФИИ

При ознакомлении с демонстрационным вариантом контрольных измерительных материалов (КИМ) единого государственного экзамена (ЕГЭ) 2022 г. следует иметь в виду, что задания, включённые в него, не отражают всех элементов содержания, которые будут проверяться с помощью вариантов КИМ в 2022 г. Полный перечень элементов содержания, которые могут контролироваться на едином государственном экзамене 2022 г., приведён в кодификаторе элементов содержания и требований к уровню подготовки выпускников образовательных организаций для проведения единого государственного экзамена 2022 г. по географии.



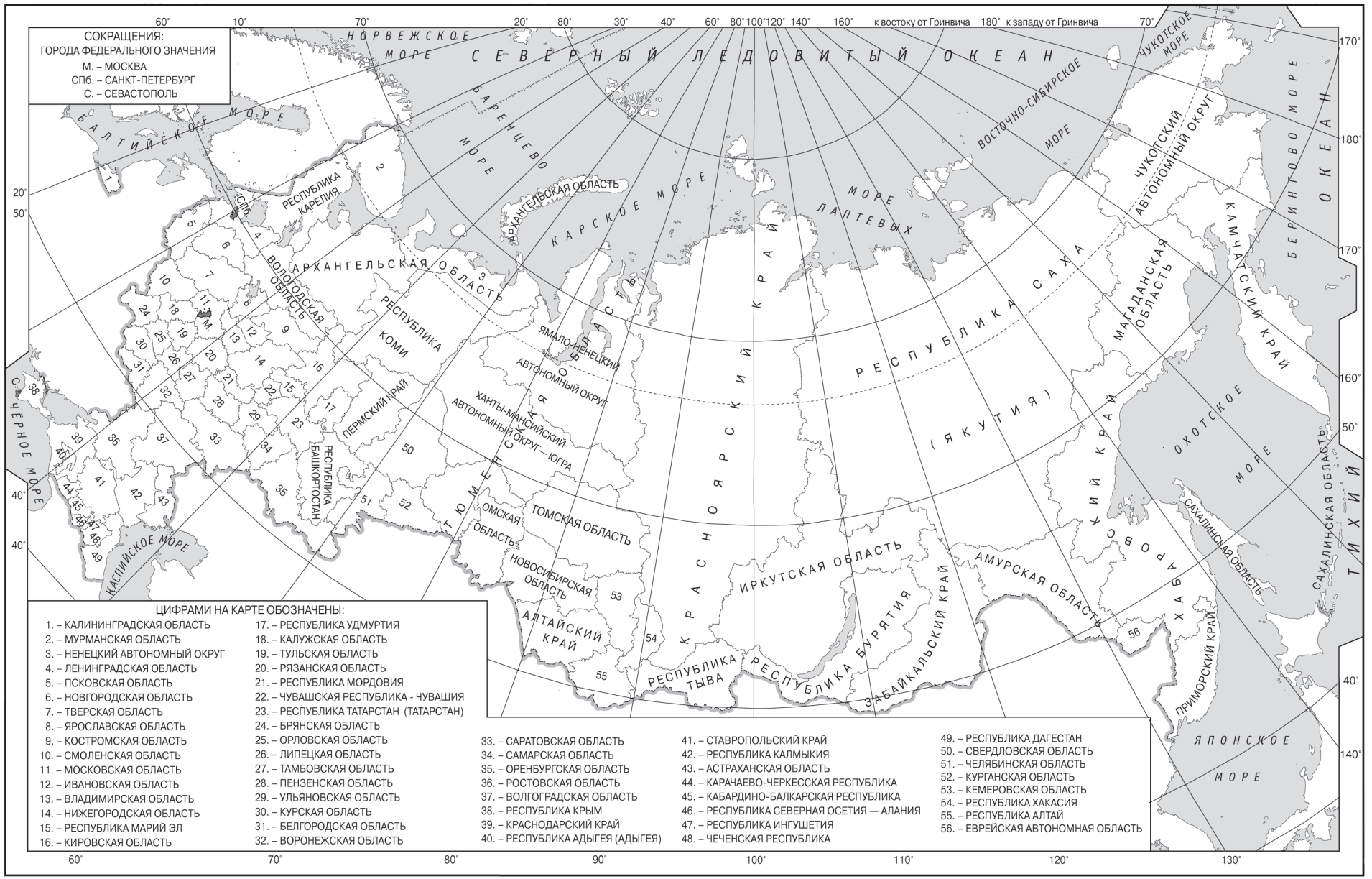
**В демонстрационном варианте представлены конкретные примеры заданий, не исчерпывающие всего многообразия возможных формулировок заданий на каждой позиции варианта экзаменационной работы.**

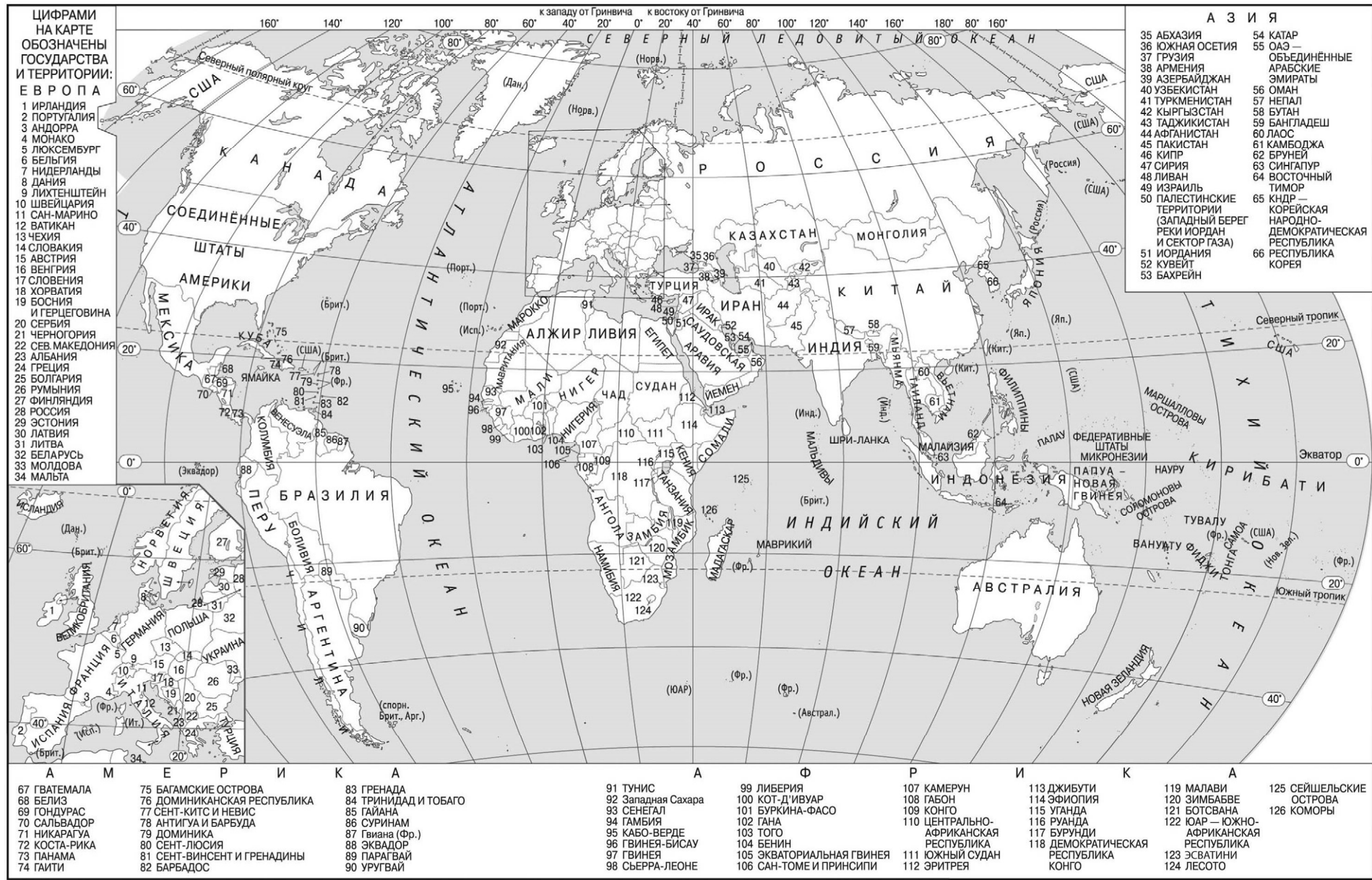
Назначение демонстрационного варианта заключается в том, чтобы дать возможность любому участнику ЕГЭ и широкой общественности составить представление о структуре будущих КИМ, количестве заданий, об их форме и уровне сложности.

**В демонстрационном варианте представлено по несколько примеров заданий на некоторые позиции экзаменационной работы. В реальных вариантах экзаменационной работы на каждую позицию будет предложено только одно задание.**

Приведённые критерии оценки выполнения заданий с развёрнутым ответом, включённые в этот вариант, дают представление о требованиях к полноте и правильности записи развёрнутого ответа.

Эти сведения позволят выпускникам выработать стратегию подготовки к ЕГЭ в 2022 г.





ЦИФРАМИ  
НА КАРТЕ  
ОБОЗНАЧЕНЫ  
ГОСУДАРСТВА  
И ТЕРРИТОРИИ:  
Е В Р О П А

- 1 ИРЛАНДИЯ
- 2 ПОРТУГАЛИЯ
- 3 АНДОРРА
- 4 МОНАКО
- 5 ЛЮКСЕМБУРГ
- 6 БЕЛЬГИЯ
- 7 НИДЕРЛАНДЫ
- 8 ДАНИЯ
- 9 ЛИХТЕНШТЕЙН
- 10 ШВЕЙЦАРИЯ
- 11 САН-МАРИНО
- 12 ВАТИКАН
- 13 ЧЕХИЯ
- 14 СЛОВАКИЯ
- 15 АВСТРИЯ
- 16 ВЕНГРИЯ
- 17 СЛОВЕНИЯ
- 18 ХОРВАТИЯ
- 19 БОСНИЯ И ГЕРЦЕГОВИНА
- 20 СЕРБИЯ
- 21 ЧЕРНОГОРИЯ
- 22 СЕВ. МАКЕДОНИЯ
- 23 АЛБАНИЯ
- 24 ГРЕЦИЯ
- 25 БОЛГАРИЯ
- 26 РУМИНИЯ
- 27 ФИНЛЯНДИЯ
- 28 РОССИЯ
- 29 ЭСТОНИЯ
- 30 ЛАТВИЯ
- 31 ЛИТВА
- 32 БЕЛАРУСЬ
- 33 МОЛДОВА
- 34 МАЛЬТА

- 67 ГВАТЕМАЛА
- 68 БЕЛИЗ
- 69 ГОНДУРАС
- 70 САЛЬВАДОР
- 71 НИКАРАГУА
- 72 КОСТА-РИКА
- 73 ПАНАМА
- 74 ГАИТИ

- 75 БАГАМСКИЕ ОСТРОВА
- 76 ДОМИНИКАНСКАЯ РЕСПУБЛИКА
- 77 СЕНТ-КИТС И НЕВИС
- 78 АНТИГУА И БАРЕУДА
- 79 ДОМИНИКА
- 80 СЕНТ-ЛЮСИЯ
- 81 СЕНТ-ВИНСЕНТ И ГРЕНАДИНЫ
- 82 БАРБАДОС

- 83 ГРЕНАДА
- 84 ТРИНИДАД И ТОБАГО
- 85 ГАЙАНА
- 86 СУРИНАМ
- 87 Гвиана (Фр.)
- 88 ЭКВАДОР
- 89 ПАРАГВАЙ
- 90 УРУГВАЙ

- 91 ТУНИС
- 92 Западная Сахара
- 93 СЕНЕГАЛ
- 94 ГАМБИЯ
- 95 КАБО-ВЕРДЕ
- 96 ГВИНЕЯ-БИСАУ
- 97 ГВИНЕЯ
- 98 СЬЕРРА-ЛЕОНЕ

- 99 ЛИБЕРИЯ
- 100 КОТ-Д'ИВУАР
- 101 БУРКИНА-ФАСО
- 102 ГАНА
- 103 ТОГО
- 104 БЕНИН
- 105 ЭКВАТОРИАЛЬНАЯ ГВИНЕЯ
- 106 САН-ТОМЕ И ПРИНСИПИ

- 107 КАМЕРУН
- 108 ГАБОН
- 109 КОНГО
- 110 ЦЕНТРАЛЬНО-АФРИКАНСКАЯ РЕСПУБЛИКА
- 111 ЮЖНЫЙ СУДАН
- 112 ЭРИТРЕЯ

- 113 ДЖИБУТИ
- 114 ЭФИОПИЯ
- 115 УГАНДА
- 116 РУАНДА
- 117 БУРУНДИ
- 118 ДЕМОКРАТИЧЕСКАЯ РЕСПУБЛИКА КОНГО
- 119 МАЛАВИ
- 120 ЗИМБАБВЕ
- 121 БОТСВАНА
- 122 ЮАР — ЮЖНО-АФРИКАНСКАЯ РЕСПУБЛИКА
- 123 ЭСАТИНИ
- 124 ЛЕСОТО

- А З И Я
- |   |  |
|---|--|
| 35 АБХАЗИЯ  | 54 КАТАР   |
| 36 ЮЖНАЯ ОСЕТИЯ   | 55 ОАЭ — ОБЪЕДИНЕННЫЕ АРАБСКИЕ ЭМИРАТЫ                 |
| 37 ГРУЗИЯ   | 56 ОМАН  |
| 38 АРМЕНИЯ  | 57 НЕПАЛ   |
| 39 АЗЕРБАЙДЖАН  | 58 БУТАН   |
| 40 УЗБЕКИСТАН   | 59 БАНГЛАДЕШ   |
| 41 ТУРКМЕНИСТАН   | 60 ЛАОС  |
| 42 КЫРГЫЗСТАН   | 61 КАМБОДЖА  |
| 43 ТАДЖИКИСТАН  | 62 БРУНЕЙ  |
| 44 АФГАНИСТАН   | 63 СИНГАПУР  |
| 45 ПАКИСТАН   | 64 ВОСТОЧНЫЙ ТИМОР                                     |
| 46 КИПР   | 65 КНДР — КОРЕЙСКАЯ НАРОДНО-ДЕМОКРАТИЧЕСКАЯ РЕСПУБЛИКА |
| 47 СИРИЯ  | 66 РЕСПУБЛИКА Корея                                    |
| 48 ЛИВАН  |  |
| 49 ИЗРАИЛЬ  |  |
| 50 ПАЛЕСТИНСКИЕ ТЕРРИТОРИИ (ЗАПАДНЫЙ БЕРЕГ РЕКИ ИОРДАН И СЕКТОР ГАЗА) |  |
| 51 ИОРДАНИЯ   |  |
| 52 КУВЕЙТ   |  |
| 53 БАХРЕЙН  |  |

**Основные демографические показатели некоторых стран Южной Америки и Африки в 2017 г.**

Страна	Численность населения, млн человек	Рождаемость, ‰	Смертность, ‰	Плотность населения, человек на км <sup>2</sup>	Доля городского населения, %	Ожидаемая продолжительность жизни, лет	Доля лиц в возрасте младше 15 лет, %	Доля лиц в возрасте старше 65 лет, %
Аргентина	42,7	16	6	16	91	77	25	12
Боливия	11,3	23	7	11	70	69	32	7
Бразилия	207,9	14	6	25	86	75	23	8
Венесуэла	31,4	19	5	36	88	75	28	7
Гвиана (Фр)	0,3	21	8	4	85	78	33	5
Колумбия	49,8	15	6	45	76	76	26	8
Парагвай	6,9	21	6	18	60	73	30	6
Перу	32,2	19	6	26	79	75	27	7
Уругвай	3,5	14	9	20	95	77	21	15
Чили	18,6	14	6	25	87	80	21	11
Эквадор	17,0	20	5	69	65	76	29	7
Алжир	42,7	26	4	18	73	77	29	6
Ангола	30,4	45	10	25	45	60	48	2
Египет	97,0	27	6	101	43	72	33	4
Кения	51,0	31	6	92	27	67	41	3
Ливия	6,4	20	5	4	79	72	29	4
Мали	19,4	45	10	16	42	60	47	2
Марокко	35,1	19	5	81	79	75	25	6
Нигер	22,2	48	10	18	16	60	50	3
Судан	40,6	34	8	23	36	64	41	4
Танзания	57,5	39	7	69	34	65	45	3
Тунис	11,6	19	6	76	68	76	24	8
Уганда	44,1	41	9	229	24	63	48	3
Чад	14,9	45	13	13	23	53	47	2
Эфиопия	105,0	33	7	110	20	65	41	4

**Показатели социально-экономического развития некоторых стран Южной Америки и Африки в 2017 г.**

Страна	Объём ВВП, млрд долл.	Структура ВВП, %			Структура занятости населения, %			Объём экспорта, млрд долл.	Объём сельско- хозяйственного экспорта, млрд долл.
		Сфера услуг	Промыш- ленность	Сельское хозяйство	Сфера услуг	Промыш- ленность	Сельское хозяйство		
Аргентина	922,1	61,1	28,1	10,8	66	29	5	58,43	37,4
Боливия	85,8	48,2	37,8	13,8	49	22	29	7,7	1,6
Бразилия	3243,2	72,7	20,7	6,6	59	32	9	217,7	90,4
Венесуэла	452,7	54,9	40,4	4,7	70	22	8	31,6	0,03
Колумбия	711,6	62,1	30,8	7,2	62	21	17	37,8	8,3
Парагвай	69,7	54,5	27,7	17,9	55	19	26	8,6	5,5
Перу	420,2	59,9	32,7	7,4	57	18	25	44,9	9,6
Суринам	8,6	57,3	31,1	11,6	69	19	12	2,1	0,15
Уругвай	76,5	69,7	24,1	6,2	73	14	13	7,8	6,06
Чили	453,8	63,0	32,2	4,2	67	24	9	68,3	23,0
Эквадор	193,8	60,1	32,9	7,0	55	18	27	19,1	11,0
Алжир	642,6	47,4	39,3	13,3	59	31	10	34,9	0,42
Ангола	193,6	32,2	57,6	10,2	34	15	49	33,1	0,03
Египет	1204,0	54,0	34,3	11,7	50	26	24	25,6	4,9
Кения	163,2	47,5	18,0	34,5	42	20	38	5,7	3,2
Мали	41,9	40,5	17,7	41,8	11	28	61	2,8	0,6
Марокко	291,3	56,5	29,5	14,0	43	20	37	25,3	5,5
Ливия	31,3	46,2	52,8	1,0	59	24	17	15,6	0,1
Нигер	21,9	39,0	19,5	41,5	20	5	75	1,2	0,4
Судан	177,8	57,8	2,6	39,6	41	7	52	3,0	2,0
Танзания	166,7	47,6	29,0	23,4	50	28	22	4,5	1,7
Тунис	133,3	63,7	26,2	10,1	52	34	14	14,2	1,6
Уганда	89,1	50,7	21,1	28,2	23	7	70	2,8	1,4
Чад	28,6	33,4	14,2	52,4	9	4	87	1,2	0,05
Эфиопия	198,5	43,6	21,6	34,8	22	9	69	3,2	1,3



**3** Сумма активных температур – это годовая сумма средних суточных температур воздуха или почвы, превышающих определённый порог: 0 °С, +5 °С, +10 °С и т.д. Чем выше сумма активных температур на определённой территории, тем более теплолюбивые сельскохозяйственные культуры можно возделывать на этой территории. Расположите перечисленные регионы в порядке повышения степени благоприятности их природных условий для выращивания теплолюбивых культур.

- 1) Ленинградская область
- 2) Липецкая область
- 3) Республика Крым

Запишите в таблицу получившуюся последовательность цифр.

Ответ: 

--	--	--

**ИЛИ**

Эффективность работы солнечных панелей, используемых для энергоснабжения жилых домов, во многом зависит от продолжительности светового дня. Расположите перечисленные города в порядке увеличения продолжительности светового дня 1 мая, начиная с города с наименьшей продолжительностью светового дня.

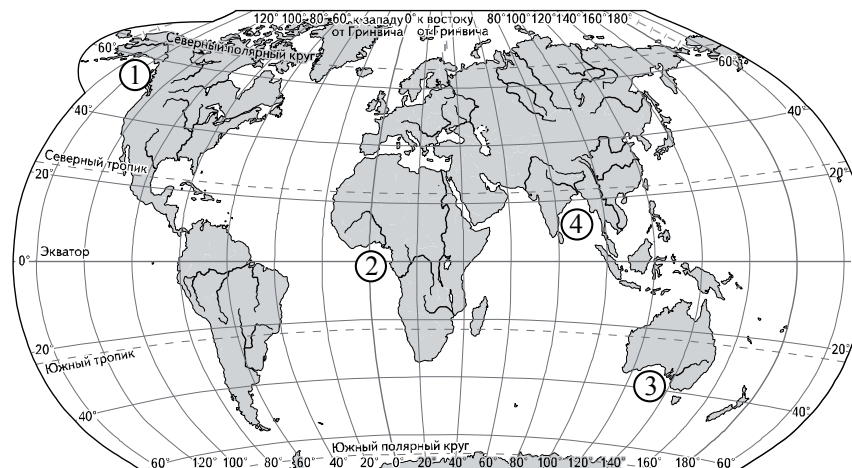
- 1) Ханты-Мансийск
- 2) Омск
- 3) Воркута

Запишите в таблицу получившуюся последовательность цифр.

Ответ: 

--	--	--

**4** Установите соответствие между заливом и его обозначением на карте мира: к каждому элементу первого столбца подберите соответствующий элемент из второго столбца.



ЗАЛИВ	ОБОЗНАЧЕНИЕ НА КАРТЕ
А) Гвинейский	1) 1
Б) Бенгальский	2) 2
В) Аляска	3) 3
	4) 4

Запишите в таблицу выбранные цифры под соответствующими буквами.

Ответ: 

А	Б	В

**ИЛИ**

Расположите перечисленные части Мирового океана с запада на восток в том порядке, в котором они расположены на карте мира и в справочных материалах, начиная с самой западной.

- 1) Аравийское море
- 2) Бенгальский залив
- 3) Гвинейский залив

Запишите в таблицу получившуюся последовательность цифр.

Ответ: 

--	--	--

- 5 Прочитайте приведённый ниже текст, в котором пропущен ряд слов. Выберите из предлагаемого списка слова, которые необходимо вставить на места пропусков.

### Зона тундры в России

В России природная зона тундры расположена на побережье морей Северного Ледовитого океана и тянется от западных до восточных границ страны. Увлажнение на территории зоны \_\_\_\_\_ (А). Развитию древесной растительности препятствуют \_\_\_\_\_ (Б) низкие температуры. Тундрово-глеевые почвы содержат \_\_\_\_\_ (В) гумуса.

Выбирайте последовательно одно слово за другим, мысленно вставляя на места пропусков слова из списка в нужной форме. Обратите внимание на то, что слов в списке больше, чем Вам потребуется для заполнения пропусков. Каждое слово может быть использовано только один раз.

Список слов:

- 1) суровый
- 2) недостаточный
- 3) много
- 4) мало
- 5) избыточный
- 6) мягкий

В данной ниже таблице приведены буквы, обозначающие пропущенные слова. Запишите в таблицу под каждой буквой номер выбранного Вами слова.

Ответ:

А	Б	В

### ИЛИ

Прочитайте приведённый ниже текст, в котором пропущен ряд слов (словосочетаний). Выберите из предлагаемого списка слова (словосочетания), которые необходимо вставить на места пропусков.

### Демографическая ситуация в Швеции

По данным на начало 2019 г., численность населения Швеции составляла немногим более 10 млн человек – на 1,5 млн человек больше, чем в начале XXI в. Основной прирост населения был обеспечен за счёт \_\_\_\_\_ (А) – превышения числа иммигрантов над числом эмигрантов. При этом в стране прекратилась естественная убыль населения: показатель \_\_\_\_\_ (Б) ежегодно был выше показателя \_\_\_\_\_ (В). По-прежнему сохранилась тенденция увеличения доли пожилых людей в общей численности населения страны.

Выбирайте последовательно одно слово (словосочетание) за другим, мысленно вставляя на места пропусков слова (словосочетания) из списка в нужной форме. Обратите внимание на то, что слов (словосочетаний) в списке больше, чем Вам потребуется для заполнения пропусков. Каждое слово (словосочетание) может быть использовано только один раз.

Список слов (словосочетаний):

- 1) естественный прирост
- 2) миграционный прирост
- 3) смертность
- 4) рождаемость
- 5) средняя продолжительность жизни
- 6) урбанизация

В данной ниже таблице приведены буквы, обозначающие пропущенные слова (словосочетания). Запишите в таблицу под каждой буквой номер выбранного Вами слова (словосочетания).

Ответ:

А	Б	В



**ИЛИ**

Прочитайте приведённый ниже текст, в котором пропущен ряд слов. Выберите из предлагаемого списка слова, которые необходимо вставить на места пропусков.

**Географические особенности природы Западной Сибири**

Природа Западной Сибири как крупного географического района России имеет ряд особенностей. Вся северную часть территории района занимает \_\_\_\_\_ (А). Климат более континентальный по сравнению с Восточно-Европейской равниной, что проявляется в меньшем количестве атмосферных осадков и большей годовой амплитуде температур. Район располагается в нескольких природных зонах: от тундры на севере до \_\_\_\_\_ (Б) на юге. Для территории района характерна \_\_\_\_\_ (В) степень заболоченности.

Выбирайте последовательно одно слово за другим, мысленно вставляя на места пропусков слова из списка в нужной форме. Обратите внимание на то, что слов в списке больше, чем Вам потребуется для заполнения пропусков. Каждое слово может быть использовано только один раз.

Список слов:

- 1) пустыня
- 2) степь
- 3) низменность
- 4) плоскогорье
- 5) высокая
- 6) низкая

В данной ниже таблице приведены буквы, обозначающие пропущенные слова. Запишите в таблицу под каждой буквой номер выбранного Вами слова.

Ответ:

А	Б	В

**ИЛИ**

Прочитайте приведённый ниже текст, в котором пропущен ряд слов (словосочетание). Выберите из предлагаемого списка слова (словосочетание), которые необходимо вставить на места пропусков.

**Географические особенности Испании**

Испания, обладая всеми характерными чертами экономически развитых европейских стран, имеет ряд географических особенностей. По форме правления она является \_\_\_\_\_ (А). Испания имеет развитую промышленность, представленную практически всеми современными производствами, и высокоинтенсивное сельское хозяйство. Испания является мировым лидером по производству \_\_\_\_\_ (Б). Доля продукции АПК в общем объеме экспорта страны \_\_\_\_\_ (В), чем в большинстве других западноевропейских стран. Очень большую роль в экономике страны играет международный туризм.

Выбирайте последовательно одно слово (словосочетание) за другим, мысленно вставляя на места пропусков слова (словосочетание) из списка в нужной форме. Обратите внимание на то, что слов (словосочетания) в списке больше, чем Вам потребуется для заполнения пропусков. Каждое слово (словосочетание) может быть использовано только один раз.

Список слов (словосочетание):

- 1) выше
- 2) ниже
- 3) монархия
- 4) республика
- 5) оливки
- 6) семена подсолнечника

В данной ниже таблице приведены буквы, обозначающие пропущенные слова (словосочетание). Запишите в таблицу под каждой буквой номер выбранного Вами слова (словосочетания).

Ответ:

А	Б	В

**6** В «Стратегии пространственного развития Российской Федерации» приоритетными являются опережающее развитие и социальное обустройство регионов с низкой плотностью населения. Какие три из перечисленных регионов России имеют **наименьшую** среднюю плотность населения? Запишите в таблицу цифры, под которыми указаны эти регионы.

- 1) Хабаровский край
- 2) Пензенская область
- 3) Челябинская область
- 4) Магаданская область
- 5) Ставропольский край
- 6) Республика Коми

Ответ: 

--	--	--	--

**ИЛИ**

Численность населения города является важным фактором, определяющим его экономическое и социальное развитие. Какие три из перечисленных городов России имеют наибольшую численность населения? Запишите в таблицу цифры, под которыми указаны эти города.




- 1) Новосибирск
- 2) Томск
- 3) Петрозаводск
- 4) Ставрополь
- 5) Уфа
- 6) Ростов-на-Дону

Ответ: 

--	--	--	--

**7** Установите соответствие между страной и диаграммой, отражающей распределение её экономически активного населения по секторам экономики: к каждой позиции, данной в первом столбце, подберите соответствующую позицию из второго столбца.

■ – промышленность    ■ – сельское хозяйство    □ – сфера услуг

СТРАНА	РАСПРЕДЕЛЕНИЕ ЭКОНОМИЧЕСКИ АКТИВНОГО НАСЕЛЕНИЯ
А) Дания	1) 
Б) Афганистан	2) 
В) Парагвай	3) 

Запишите в таблицу выбранные цифры под соответствующими буквами.

Ответ: 

А	Б	В

8 Выберите все верные высказывания и запишите цифры, под которыми они указаны.

- 1) Уровень экономического развития страны напрямую зависит от её обеспеченности разнообразными природными ресурсами.
- 2) Темп роста населения Земли зависит от превышения рождаемости над смертностью.
- 3) При добыче открытым способом каменного угля его себестоимость будет тем выше, чем выше его доля на месторождении.
- 4) Повышение содержания метана в атмосфере приводит к усилению парникового эффекта.
- 5) Тёплые течения способствуют уменьшению количества атмосферных осадков.

Ответ: \_\_\_\_\_.

9 Регионы, богатые топливно-энергетическими ресурсами, поставляемыми на экспорт, выделяются более высоким уровнем жизни населения.

В каких трёх из перечисленных регионов России ведётся добыча нефти? Запишите цифры, под которыми указаны эти регионы.

- 1) Ханты-Мансийский автономный округ – Югра
- 2) Ивановская область
- 3) Республика Татарстан
- 4) Сахалинская область
- 5) Забайкальский край
- 6) Республика Карелия

Ответ:

**ИЛИ**

В последнее десятилетие Россия стала одним из крупнейших мировых экспортёров зерна. Постоянная забота о качестве продукции, поставляемой на мировой рынок, способствует успеху в конкурентной борьбе с другими странами – экспортёрами зерна.

С какими тремя из перечисленных стран Россия конкурирует на мировом зерновом рынке? Запишите цифры, под которыми указаны эти страны.

- 1) Австралия
- 2) США
- 3) Турция
- 4) Египет
- 5) Канада
- 6) ЮАР

Ответ:

10 На основе анализа данных приведённой ниже таблицы укажите все регионы, в которых в период с 2013 по 2015 г. ежегодно происходило увеличение объёмов промышленного производства. Запишите цифры, под которыми указаны эти регионы.

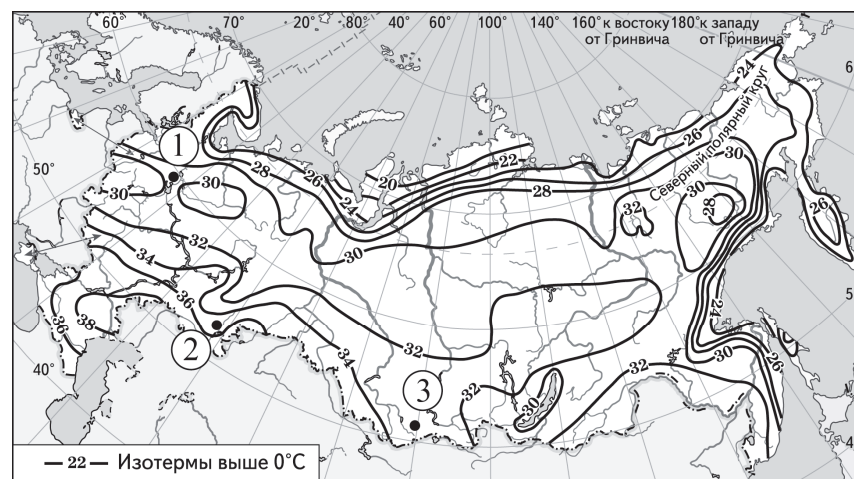
**Динамика объёмов промышленного производства**  
(в % к предыдущему году)

Регион	2013 г.	2014 г.	2015 г.
1) Алтайский край	101,3	98,9	100,1
2) Псковская область	100,6	94,4	102,8
3) Республика Бурятия	114,9	102,9	101,6
4) Волгоградская область	101,5	102,4	101,1

Ответ: \_\_\_\_\_.

11 С помощью карты сравните значения средних многолетних максимумов температуры воздуха в точках, обозначенных на карте цифрами 1, 2 и 3. Расположите точки в порядке повышения этих значений.

**Средние многолетние максимумы температуры воздуха (в °С)**



Запишите в таблицу получившуюся последовательность цифр.

Ответ:

**12** Выберите все высказывания с информацией о международной экономической интеграции и запишите цифры, под которыми они указаны.

- 1) В 2018 г. был заключён торгово-экономический союз между Европейским союзом и Японией, в результате этого была создана крупнейшая в мире зона свободной торговли.
- 2) В 2018 г. США, Канада и Мексика вместо соглашения НАФТА заключили новое торговое соглашение, предусматривающее взаимную отмену таможенных пошлин.
- 3) В 2018 г. США стали крупнейшим в мире производителем нефти и природного газа, опередив Саудовскую Аравию и Россию.
- 4) Более половины продукции машиностроительных предприятий таких стран, как Германия, Япония и Южная Корея, предназначена для поставки на международный рынок.
- 5) Рост численности населения США в значительной степени обеспечивается за счёт иммигрантов из разных стран мира.

Ответ: \_\_\_\_\_.

**13** Расположите события в геологической истории Земли в хронологическом порядке, начиная с самого раннего.

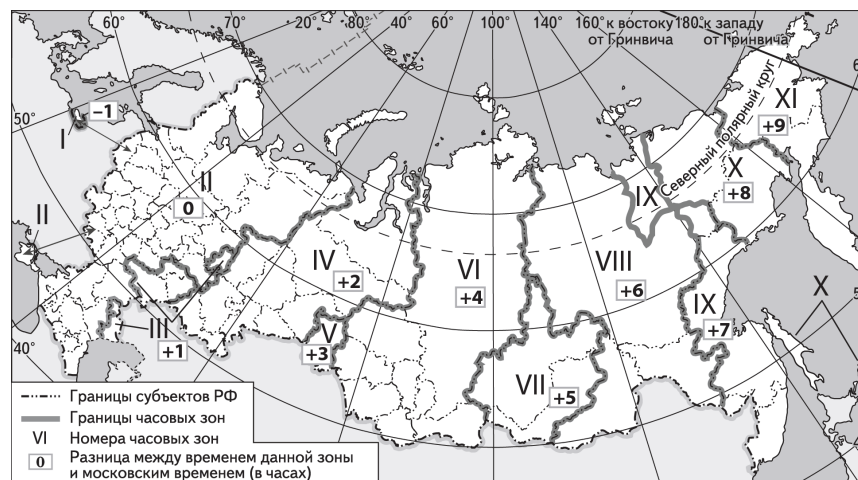
- 1) В конце пермского периода на территории современной Сибири начались крупнейшие в истории Земли вулканические извержения, длившиеся сотни лет.
- 2) Столкновение с Землёй огромного астероида в конце мелового периода стало катастрофой планетарного масштаба.
- 3) В конце девонского периода на Земле произошло массовое вымирание морских организмов и резкое сокращение биоразнообразия.

Запишите в таблицу получившуюся последовательность цифр.

Ответ: 

--	--	--

**14** Прямая трансляция парада на Красной площади в Москве 9 мая начинается в 10 часов по московскому времени. Используя карту, определите, во сколько часов по местному времени эта трансляция начнётся в Красноярске.



Ответ запишите в виде числа.

Ответ: \_\_\_\_\_ ч.

**15** В настоящее время к стратегически важным материалам, данные о запасах которых засекречиваются, стали относить руды таких металлов, как литий, кобальт и др. Учащиеся нашли в Интернете информацию о том, что в мире в 2017 г. было добыто 44 700 т лития, при этом показатель ресурсообеспеченности этим металлом на этот год составлял 358 лет. Определите, какова была величина разведанных запасов лития в 2017 г. Ответ запишите в виде числа.

Ответ: \_\_\_\_\_ т.

- 16 Используя данные диаграммы, определите величину миграционного прироста населения Тверской области в 2015 г. Ответ запишите в виде числа (по образцу, указанному в инструкции по выполнению работы).

**Распределение числа мигрантов по основным потокам передвижения в Тверской области в 2015 г. (тыс. человек)**



Ответ: \_\_\_\_\_ тыс. человек.

**ИЛИ**

На численность населения субъектов Российской Федерации заметное влияние оказывают как естественное движение населения, так и миграции. Используя данные таблицы, определите величину миграционного прироста населения Республики Башкортостан в 2016 г.

**Численность и естественный прирост населения Республики Башкортостан (человек)**

Показатель	2015 г.	2016 г.	2017 г.
Численность постоянного населения на 1 января	4 071 987	4 071 064	4 066 972
Среднегодовая численность населения	4 071 525	4 069 018	4 065 132
Естественный прирост населения, значение показателя за год	5004	3298	-1943

Ответ запишите в виде числа.

Ответ: \_\_\_\_\_ человек(а).

- 17 Определите страну по её краткому описанию. Эта африканская страна по форме правления является республикой. Страна богата разнообразными минеральными природными ресурсами, основные из которых – нефть и природный газ, алмазы, руды цветных и чёрных металлов, фосфориты. Относится к средним по численности населения странам, но при этом для неё характерен высокий (более 30‰) естественный прирост. Страна является членом ОПЕК, и нефть – главная статья её экспорта.

Ответ: \_\_\_\_\_.

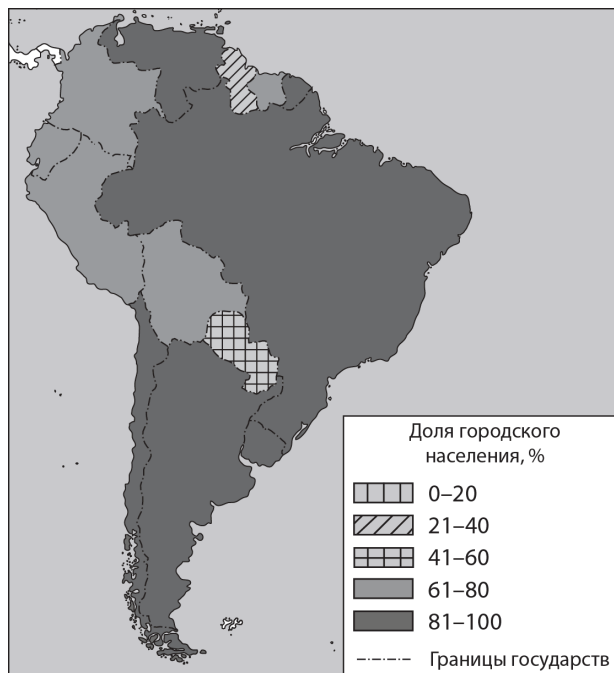
- 18 Определите регион России по его краткому описанию.

Эта область расположена в Европейской части России. Она имеет выход к Государственной границе Российской Федерации. К основным отраслям промышленности относятся добыча железных руд и производство железорудных окатышей. Машиностроение специализируется на производстве кузнечно-прессового оборудования, электротехнических изделий, оборудования для животноводства и кормопроизводства. Электроэнергией область обеспечивает расположенная на её территории крупная АЭС. В пищевой промышленности используется местное сельскохозяйственное сырьё: на чернозёмных почвах выращивают зерновые культуры, картофель, сахарную свёклу, подсолнечник.

Ответ: \_\_\_\_\_ область.

**Задания 19 и 20 выполняются с использованием справочных материалов и приведённой ниже карты.**

**Южная Америка. Доля городского населения**



**19** Расположите перечисленные страны в порядке возрастания в них доли городского населения в общей численности населения, начиная со страны с наименьшим значением этого показателя.

- 1) Гайана
- 2) Эквадор
- 3) Колумбия

Запишите в таблицу получившуюся последовательность цифр.

Ответ: 

--	--	--

**20** Сергею необходимо составить карту «Африка. Доля городского населения», используя такую же интервальную шкалу, как на приведённой выше карте Южной Америки.

Установите соответствие между страной и условным обозначением, которое необходимо использовать для отображения доли городского населения каждой из перечисленных стран на карте: к каждой позиции, данной в первом столбце, подберите соответствующую позицию из второго столбца.

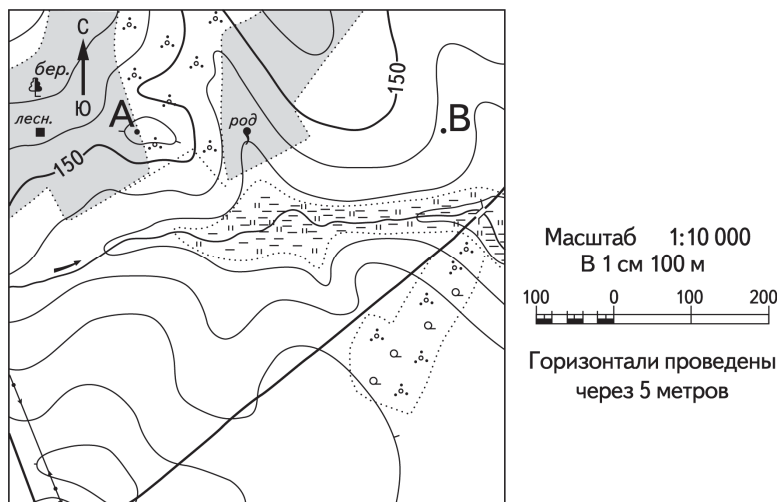
СТРАНА	УСЛОВНОЕ ОБОЗНАЧЕНИЕ			
А) Нигер	1) <table border="1" style="display: inline-table; vertical-align: middle;"><tr><td style="width: 15px; height: 10px;"></td><td style="width: 15px; height: 10px;"></td><td style="width: 15px; height: 10px;"></td></tr></table> 0–20%			
Б) Тунис	2) <table border="1" style="display: inline-table; vertical-align: middle;"><tr><td style="width: 15px; height: 10px;"></td><td style="width: 15px; height: 10px;"></td><td style="width: 15px; height: 10px;"></td></tr></table> 21–40%			
В) Уганда	3) <table border="1" style="display: inline-table; vertical-align: middle;"><tr><td style="width: 15px; height: 10px;"></td><td style="width: 15px; height: 10px;"></td><td style="width: 15px; height: 10px;"></td></tr></table> 41–60%			
	4) <table border="1" style="display: inline-table; vertical-align: middle;"><tr><td style="width: 15px; height: 10px;"></td><td style="width: 15px; height: 10px;"></td><td style="width: 15px; height: 10px;"></td></tr></table> 61–80%			
	5) <table border="1" style="display: inline-table; vertical-align: middle;"><tr><td style="width: 15px; height: 10px;"></td><td style="width: 15px; height: 10px;"></td><td style="width: 15px; height: 10px;"></td></tr></table> 81–100%			

Запишите в таблицу выбранные цифры под соответствующими буквами.

Ответ: 

А	Б	В

Задания 21 и 22 выполняются с использованием приведённого ниже фрагмента топографической карты.



- 21 Определите по карте азимут, по которому надо идти туристу, находящемуся у родника, для того чтобы попасть к дому лесника.  
Ответ запишите в виде числа.

Ответ: \_\_\_\_\_ град.

- 22 В бланке ответов № 2 укажите номер задания и постройте профиль рельефа местности по линии А – В. При построении основы профиля используйте горизонтальный масштаб в 1 см 50 м и вертикальный масштаб в 1 см 5 м. Укажите на профиле знаком «X» положение родника.

Задания 23–25 выполняются с использованием приведённого ниже текста. Ответ на задание 23 запишите в поле ответа в тексте работы, а затем перенесите в БЛАНК ОТВЕТОВ № 1. Для записи ответов на задания 24 и 25 используйте БЛАНК ОТВЕТОВ № 2. Запишите сначала номер задания (24 или 25), а затем развёрнутый ответ на него. Ответы записывайте чётко и разборчиво.

### Первый российский «экотанкер»

Российская компания «Совкомфлот» приняла в эксплуатацию танкер «Перспект Гагарина» – первый в мире танкер ледового класса, специально спроектированный для использования сжиженного природного газа (СПГ) в качестве основного топлива.

Этот танкер относится к танкерам нового поколения, обладающим низким уровнем антропогенного воздействия на окружающую среду. По сравнению с аналогичными судами, работающими на дизельном топливе или на мазуте, танкеры, использующие в качестве топлива СПГ, выбрасывают в атмосферу на 100% меньше оксидов серы, на 76% меньше оксидов азота, повышенные концентрации которых оказывают вредное воздействие на здоровье человека, и на 27% меньше углекислого газа ( $\text{CO}_2$ ).

«Перспект Гагарина» был впервые заправлен газомоторным топливом 2 октября в порту Роттердам, а 15 октября судно успешно завершило свою первую погрузку экспортной партии российской нефти в порту Приморск.

- 23 Назовите страну, в которой находится порт Роттердам.

Ответ: \_\_\_\_\_.

- 24 Объясните, что означает использованный в тексте термин «антропогенное воздействие».

- 25 В тексте говорится о вредном воздействии на здоровье человека оксидов серы и азота. Объясните, какую ещё опасность представляет для окружающей среды загрязнение атмосферы оксидами серы и азота.

Для записи ответов на задания 26–31 используйте **БЛАНК ОТВЕТОВ № 2**. Запишите сначала номер задания (26, 27 и т.д.), а затем развёрнутый ответ на него. Ответы записывайте чётко и разборчиво.

**26** На основе анализа данных справочных материалов предположите, какая из стран: Уругвай или Судан – находилась в 2017 г. выше в рейтинге ООН по индексу человеческого развития (ИЧР). Для обоснования Вашего ответа запишите необходимые числовые данные из таблиц и вычисления, на основании которых Вы сделали своё предположение.

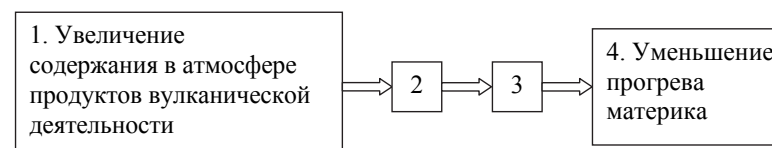
**27** Используя данные справочных материалов, сравните доли населения, занятого в сельском хозяйстве, и доли сельского хозяйства в общих объёмах экспорта Судана и Марокко. Сделайте вывод о том, в какой из этих стран сельское хозяйство играло большую роль в экономике в 2017 г. Для обоснования Вашего ответа запишите необходимые числовые данные и вычисления.

**28** Компания «Роснефть» с 2012 по 2017 г. в 4 раза увеличила добычу природного газа и в настоящее время готовит проекты по его переработке. В планах компании создание крупного газохимического предприятия в Богучанах (Красноярский край), которое будет производить полимеры: более миллиона тонн полиэтилена и полипропилена в год – продукцию, пользующуюся большим спросом в России и за рубежом. Районный центр Богучаны расположен на пересечении транспортных путей, что способствует размещению здесь предприятия химии полимеров. Укажите ещё два условия, способствующих размещению предприятия этой отрасли в Богучанах.

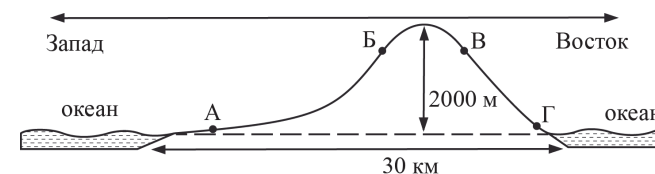
**ИЛИ**

Учёные проанализировали данные наблюдений за уровнем воды в Ниле, которые велись в Каире с 622 г. Эти данные были сопоставлены с периодами вулканической активности в древности. Выяснилось, что во время крупных извержений паводки на Ниле были слабее из-за ослабления в это время ветров, приносящих влагу с океана. Ветры ослабевали из-за меньшего прогрева материка в летнее время.

Назовите звенья цепочки связей между увеличением содержания в атмосфере продуктов вулканической деятельности и уменьшением прогрева материка, обозначенные на схеме цифрами 2 и 3.



**29** На рисунке показан профиль, проведённый по параллели 20° ю.ш. через остров, находящийся в Тихом океане. В каком из пунктов, обозначенных на профиле буквами А, Б, В и Г, будет выпадать наибольшее количество атмосферных осадков? Для обоснования Вашего ответа приведите два довода.





- 30** Определите географическую долготу пункта, если известно, что в полночь по солнечному времени Гринвичского меридиана местное солнечное время в нём 9 ч 40 мин. Запишите решение задачи.

**ИЛИ**

С корабля, находящегося в точке с координатами 13° с.ш. 73° з.д., поступило радиосообщение о неисправности двигателя. Какое расстояние (в км) до неисправного судна пройдёт ремонтный корабль из порта Риоача (11° с.ш. 73° з.д.), если известно, что корабль будет идти строго по меридиану, а неисправное судно останется в той же точке, откуда было передано сообщение? Ответ округлите до целого числа. Запишите решение задачи.

- 31** При изучении возможного влияния глобальных климатических изменений на развитие транспортного комплекса России оценки учащимися этого влияния разошлись.

Часть учащихся считала, что влияние наблюдаемых изменений климата на развитие транспортного комплекса России будет положительным, а другая придерживалась мнения, согласно которому влияние происходящих изменений климата на развитие транспортного комплекса будет отрицательным.

Приведите по одному аргументу в защиту каждой из точек зрения.



**Проверьте, чтобы каждый ответ на бланках ответов № 1 и № 2 был записан рядом с правильным номером задания.**

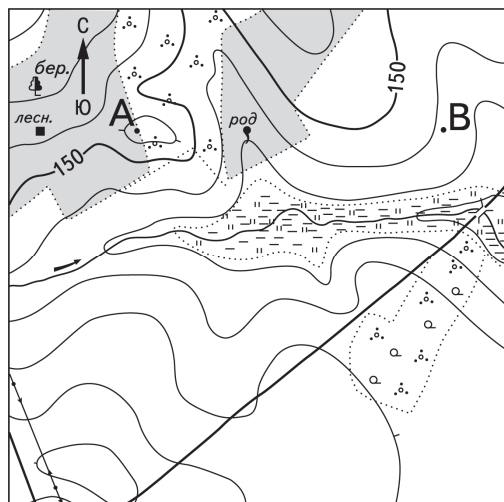
**Система оценивания экзаменационной работы по географии**

Правильные ответы на каждое из заданий 1–4, 6, 7, 9–11, 13–21, 23 оцениваются 1 баллом. Задание считается выполненным верно, если ответ записан в той форме, которая указана в инструкции по выполнению задания.

Правильное выполнение каждого из заданий 5, 8 и 12 оценивается 2 баллами. Ответы на эти задания оцениваются следующим образом: полное правильное выполнение задания – 2 балла; выполнение задания с одной ошибкой (одной неверно указанной, в том числе лишней, цифрой наряду со всеми верными цифрами) ИЛИ неполное выполнение задания (отсутствие одной необходимой цифры) – 1 балл; отсутствие ответа или неверное выполнение задания (в том числе при указании двух или более ошибочных цифр) оценивается 0 баллов.

Номер задания	Правильный ответ			
	1	Нигер		
2	312	321		
3	123	213		
4	241		312	
5	514	243	325	351
6	146		156	
7	321			
8	24			
9	134		125	
10	34			
11	132			
12	12			
13	312			
14	14			
15	16002600			
16	-1,8	-7390		
17	Ангола			
18	Курская или Курская область			
19	123			
20	142			
21	268 или 269 или 270 или 271 или 272			
23	Нидерланды или Голландия			

**Критерии оценивания выполнения заданий с развёрнутым ответом**



Масштаб 1:10 000  
В 1 см 100 м  
Горизонталы проведены через 5 метров

**22** В бланке ответов № 2 укажите номер задания и постройте профиль рельефа местности по линии А – В. При построении основы профиля используйте горизонтальный масштаб в 1 см 50 м и вертикальный масштаб в 1 см 5 м. Укажите на профиле знаком «Х» положение родника.

Содержание верного ответа и указания по оцениванию (допускаются иные формулировки ответа, не искажающие его смысла)		Баллы
1) На рисунке в ответе длина горизонтальной линии основы профиля равна $80 \pm 2$ мм и расстояние от левой вертикальной оси до родника равно $29 \pm 2$ мм; 2) вертикальный масштаб профиля выдержан верно; 3) форма профиля в основном совпадает с эталоном*, и на участке 1 склон круче, чем на участке 2		
<b>К1</b>	<b>Умение пользоваться масштабом</b>	
	Ответ включает в себя 1-й и 2-й элементы	2
	Ответ включает в себя только 1-й элемент	1
	Все ответы, которые не соответствуют вышеуказанным критериям выставления оценок в 1 и 2 балла	0
<b>К2</b>	<b>Умение строить профиль рельефа</b>	
	Ответ включает в себя 3-й элемент	1
	Все ответы, которые не соответствуют вышеуказанному критерию выставления оценки в 1 балл	0
<i>Максимальный балл</i>		<b>3</b>

\* *Примечание.* Форма профиля считается совпадающей с эталоном, если она соответствует всем следующим четырём условиям: 1) участки со спусками (подъёмами) соответствуют участкам со спусками (подъёмами) на эталоне; 2) профиль не выходит за пределы высот, существующих в пределах участка территории, на которой проходит профиль; 3) на профиле присутствуют все точки с высотами, которые должны быть на нём согласно данным карты; 4) расстояния от левой вертикальной оси профиля до точек с высотами, обозначенными на основе профиля, отличаются от соответствующих расстояний на эталоне не более чем на 4 мм.

- 24** Объясните, что означает использованный в тексте термин «антропогенное воздействие».

<b>Содержание верного ответа и указания по оцениванию</b> (допускаются иные формулировки ответа, не искажающие его смысла)	<b>Баллы</b>
В ответе говорится о воздействии деятельности человека на природу	
Ответ включает в себя названный выше элемент	1
Все ответы, которые не соответствуют вышеуказанному критерию выставления оценки в 1 балл	0
<i>Максимальный балл</i>	<i>1</i>

- 25** В тексте говорится о вредном воздействии на здоровье человека оксидов серы и азота. Объясните, какую ещё опасность представляет для окружающей среды загрязнение атмосферы оксидами серы и азота.

<b>Содержание верного ответа и указания по оцениванию</b> (допускаются иные формулировки ответа, не искажающие его смысла)	<b>Баллы</b>
В ответе говорится об опасности образования кислотных дождей ИЛИ об опасности образования смога	
Ответ включает в себя названный выше элемент	1
Все ответы, которые не соответствуют вышеуказанному критерию выставления оценки в 1 балл	0
<i>Максимальный балл</i>	<i>1</i>

- 26** На основе анализа данных справочных материалов предположите, какая из стран: Уругвай или Судан – находилась в 2017 г. выше в рейтинге ООН по индексу человеческого развития (ИЧР). Для обоснования Вашего ответа запишите необходимые числовые данные из таблиц и вычисления, на основании которых Вы сделали своё предположение.

<b>Содержание верного ответа и указания по оцениванию</b> (допускаются иные формулировки ответа, не искажающие его смысла)	<b>Баллы</b>
1) В ответе делается предположение, что выше в рейтинге ООН по ИЧР находился Уругвай. В обосновании говорится, что: 2) в Уругвае более высокая средняя ожидаемая продолжительность жизни населения, ИЛИ приводятся значения показателя средней ожидаемой продолжительности жизни населения: 77 лет в Уругвае и 64 года в Судане; 3) в Уругвае выше ВВП на душу населения, и приводятся значения показателя ВВП: 21 857 долл. в Уругвае и 4379 долл. в Судане. ИЛИ в Уругвае выше ВВП на душу населения, и приводятся вычисления: $76\,500 : 3,5$ в Уругвае и $177\,800 : 40,6$ в Судане	
Ответ включает в себя все три названных выше элемента	2
Ответ включает в себя два (1-й и 2-й) из названных выше элементов. ИЛИ Ответ включает в себя два (1-й и 3-й) из названных выше элементов	1
Все ответы, которые не соответствуют вышеуказанным критериям выставления оценок в 1 и 2 балла	0
<i>Максимальный балл</i>	<i>2</i>

- 27** Используя данные справочных материалов, сравните доли населения, занятого в сельском хозяйстве, и доли сельского хозяйства в общих объёмах экспорта Судана и Марокко. Сделайте вывод о том, в какой из этих стран сельское хозяйство играло большую роль в экономике в 2017 г. Для обоснования Вашего ответа запишите необходимые числовые данные и вычисления.

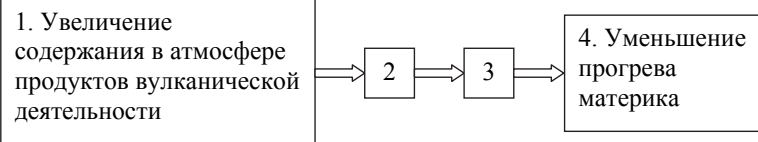
<b>Содержание верного ответа и указания по оцениванию</b> (допускаются иные формулировки ответа, не искажающие его смысла)	<b>Баллы</b>
В ответе говорится, что: 1) доля населения, занятого в сельском хозяйстве, в Судане выше, чем в Марокко, ИЛИ приводятся значения: 52% в Судане и 37% в Марокко; 2) доля сельского хозяйства в общем объёме экспорта Судана выше, чем в общем объёме экспорта Марокко; 3) для определения доли сельского хозяйства в общем объёме экспорта Судана приводятся вычисления: 2 : 3; для определения доли сельского хозяйства в общем объёме экспорта Марокко приводятся вычисления: 5,5 : 25,3 ИЛИ приводятся значения: 66,6% в Судане и 21,7% в Марокко; 4) сельское хозяйство играло большую роль в экономике Судана	
Ответ включает в себя все четыре названных выше элемента	2
Ответ включает в себя три (любых) из названных выше элементов	1
Все ответы, которые не соответствуют вышеуказанным критериям выставления оценок в 1 и 2 балла	0
<i>Максимальный балл</i>	2

- 28** Компания «Роснефть» с 2012 по 2017 г. в 4 раза увеличила добычу природного газа и в настоящее время готовит проекты по его переработке. В планах компании создание крупного газохимического предприятия в Богучанах (Красноярский край), которое будет производить полимеры: более миллиона тонн полиэтилена и полипропилена в год – продукцию, пользующуюся большим спросом в России и за рубежом. Районный центр Богучаны расположен на пересечении транспортных путей, что способствует размещению здесь предприятия химии полимеров. Укажите ещё два условия, способствующих размещению предприятия этой отрасли в Богучанах.

<b>Содержание верного ответа и указания по оцениванию</b> (допускаются иные формулировки ответа, не искажающие его смысла)	<b>Баллы</b>
В ответе указаны следующие условия: 1) близость ГЭС ИЛИ наличие источника недорогой электроэнергии; 2) хорошая обеспеченность водными ресурсами ИЛИ наличие водохранилища	
Ответ включает в себя оба названных выше элемента	2
Ответ включает в себя один (любой) из названных выше элементов. ИЛИ Ответ включает в себя оба названных элемента, но в нём присутствует географическая ошибка	1
Все ответы, которые не соответствуют вышеуказанным критериям выставления оценок в 1 и 2 балла	0
<i>Максимальный балл</i>	2

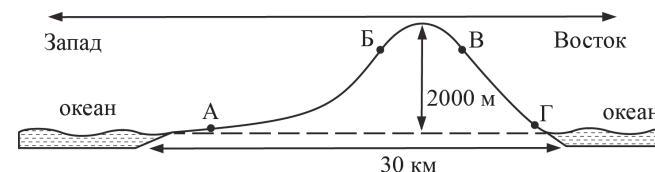
**ИЛИ**

**28** Учёные проанализировали данные наблюдений за уровнем воды в Ниле, которые велись в Каире с 622 г. Эти данные были сопоставлены с периодами вулканической активности в древности. Выяснилось, что во время крупных извержений паводки на Ниле были слабее из-за ослабления в это время ветров, приносящих влагу с океана. Ветры ослабевали из-за меньшего прогрева материка в летнее время. Назовите звенья цепочки связей между увеличением содержания в атмосфере продуктов вулканической деятельности и уменьшением прогрева материка, обозначенные на схеме цифрами 2 и 3.



Содержание верного ответа и указания по оцениванию (допускаются иные формулировки ответа, не искажающие его смысла)	Баллы
В ответе указаны следующие элементы: 1) уменьшение прозрачности атмосферы ИЛИ сокращение доли прямой солнечной радиации при увеличении доли рассеянной; 2) уменьшение количества суммарной солнечной радиации	
Ответ включает в себя оба названных выше элемента	2
Ответ включает в себя один (любой) из названных выше элементов. ИЛИ Ответ включает в себя оба названных элемента, но в нём присутствует географическая ошибка	1
Все ответы, которые не соответствуют вышеуказанным критериям выставления оценок в 1 и 2 балла	0
<i>Максимальный балл</i>	2

**29** На рисунке показан профиль, проведённый по параллели 20° ю.ш. через остров, находящийся в Тихом океане. В каком из пунктов, обозначенных на профиле буквами А, Б, В и Г, будет выпадать наибольшее количество атмосферных осадков? Для обоснования Вашего ответа приведите два довода.



Содержание верного ответа и указания по оцениванию (допускаются иные формулировки ответа, не искажающие его смысла)	Баллы
В ответе говорится, что 1) наибольшее количество атмосферных осадков будет выпадать в пункте В. В обосновании говорится, что: 2) в этих широтах преобладают пассаты ИЛИ восточные склоны наветренные ИЛИ на восточном склоне количество атмосферных осадков больше; 3) пункт В расположен выше пункта Г ИЛИ в горах выпадает больше атмосферных осадков	
Ответ включает в себя все три названных выше элемента	2
Ответ включает в себя два (любых) из названных выше элементов. ИЛИ В ответе верно указан пункт (Г) и присутствует 2-й элемент. ИЛИ Ответ включает в себя все три названных выше элемента, но в нём присутствует географическая ошибка	1
Все ответы, которые не соответствуют вышеуказанным критериям выставления оценок в 1 и 2 балла	0
<i>Максимальный балл</i>	2

- 30** Определите географическую долготу пункта, если известно, что в полночь по солнечному времени Гринвичского меридиана местное солнечное время в нём 9 ч 40 мин. Запишите решение задачи.

Содержание верного ответа и указания по оцениванию (допускаются иные формулировки ответа, не искажающие его смысла)	Баллы
Решение: 1) разница во времени с Гринвичским меридианом составляет 9 ч 40 мин., значит, разница в долготе составляет: $15^\circ \times 9 + 15^\circ : 3 \times 2 = 145^\circ$ ; 2) время в пункте больше времени на Гринвичском меридиане, значит, пункт расположен в Восточном полушарии. Ответ: $145^\circ$ в.д.	
Приведена верная последовательность шагов решения, и правильно определена долгота пункта	2
Приведена верная последовательность шагов решения, но получен неверный ответ, так как допущена ошибка при определении разницы во времени. ИЛИ Приведена верная последовательность шагов решения, и правильно определена разница в долготе, но получен неверный ответ, так как допущена ошибка при определении значения долготы пункта в градусах. ИЛИ Указан неверный ответ, так как не определено или неверно определено полушарие, в котором расположен пункт. ИЛИ Указан верный ответ, но отсутствует запись решения	1
Все случаи решения, которые не соответствуют вышеуказанным критериям выставления оценок в 1 и 2 балла	0
<i>Максимальный балл</i>	2

**ИЛИ**

- 30** С корабля, находящегося в точке с координатами  $13^\circ$  с.ш.  $73^\circ$  з.д., поступило радиосообщение о неисправности двигателя. Какое расстояние (в км) до неисправного судна пройдёт ремонтный корабль из порта Риоача ( $11^\circ$  с.ш.  $73^\circ$  з.д.), если известно, что корабль будет идти строго по меридиану, а неисправное судно останется в той же точке, откуда было передано сообщение? Ответ округлите до целого числа. Запишите решение задачи.

Содержание верного ответа и указания по оцениванию (допускаются иные формулировки ответа, не искажающие его смысла)	Баллы
Решение: $(13 - 11) \times 111 \text{ км} = 222 \text{ км}$ Ответ: 222 км. (Так как длина дуги $1^\circ$ меридиана на разных широтах различна, то как верный засчитывается любой ответ в интервале от 222 до 224 км при условии, что в решении используется значение длины дуги $1^\circ$ меридиана, отличное от 111 км, но находящееся в интервале от 111,0 до 111,7 км)	
Приведена запись решения, и правильно определено расстояние	2
Приведена верная последовательность шагов решения, но получен неверный ответ, так как допущена ошибка при определении расстояния в градусах. ИЛИ Указан неверный ответ, так как допущена ошибка при вычислении расстояния в километрах. ИЛИ Указан верный ответ, но отсутствует запись решения.	1
Все случаи решения, которые не соответствуют вышеуказанным критериям выставления оценок в 1 и 2 балла	0
<i>Максимальный балл</i>	2

**31** При изучении возможного влияния глобальных климатических изменений на развитие транспортного комплекса России оценки учащимися этого влияния разошлись.

Часть учащихся считала, что влияние наблюдаемых изменений климата на развитие транспортного комплекса России будет положительным, а другая придерживалась мнения, согласно которому влияние происходящих изменений климата на развитие транспортного комплекса будет отрицательным.

Приведите по одному аргументу в защиту каждой из точек зрения.

Содержание верного ответа и указания по оцениванию (допускаются иные формулировки ответа, не искажающие его смысла)		Баллы
<b>K1</b>	<b>Обоснование точек зрения</b>	
	В ответе приводятся правильные аргументы в защиту каждой из точек зрения: 1) аргумент, подтверждающий точку зрения, согласно которой влияние наблюдаемых изменений климата на развитие транспортного комплекса России будет положительным: улучшатся условия судоходства благодаря увеличению периода навигации и водности рек ИЛИ улучшатся условия транспортировки грузов по Северному морскому пути; 2) аргумент, подтверждающий точку зрения, согласно которой влияние происходящих изменений климата на развитие транспортного комплекса будет отрицательным: возможное разрушение элементов транспортной инфраструктуры в районах оттаивания многолетней мерзлоты ИЛИ сокращение периода эксплуатации зимников в северных районах	2
	В ответе приводятся правильные аргументы (аргумент) в защиту только одной из точек зрения	1
	В ответе отсутствуют правильные аргументы	0
<b>K2</b>	<b>Географическая грамотность</b> <i>1 балл по критерию K2 может быть выставлен только в случае, если по критерию K1 выставлено 1 или 2 балла</i>	
	<b>Отсутствуют</b> фактические и теоретические ошибки (ошибки в использовании географической терминологии, в демонстрации знаний о географических связях и закономерностях). ИЛИ Присутствует <b>не более одной</b> фактической или теоретической ошибки	1
	Все ответы, которые не соответствуют вышеуказанным критериям выставления оценки в 1 балл	0
	<i>Максимальный балл</i>	3

В соответствии с Порядком проведения государственной итоговой аттестации по образовательным программам среднего общего образования (приказ Минпросвещения России и Рособрнадзора от 07.11.2018 № 190/1512, зарегистрирован Минюстом России 10.12.2018 № 52952)

«82. <...> По результатам первой и второй проверок эксперты независимо друг от друга выставляют баллы за каждый ответ на задания экзаменационной работы ЕГЭ с развёрнутым ответом. <...>

В случае существенного расхождения в баллах, выставленных двумя экспертами, назначается третья проверка. Существенное расхождение в баллах определено в критериях оценивания по соответствующему учебному предмету.

Эксперту, осуществляющему третью проверку, предоставляется информация о баллах, выставленных экспертами, ранее проверявшими экзаменационную работу».

Существенными считаются следующие расхождения.

1. Расхождения между баллами, выставленными двумя экспертами за выполнение любого из заданий 22, 26–31, составляет 2 или более балла. В этом случае третий эксперт проверяет только те ответы на задания, которые вызвали столь существенное расхождение в оценивании.

2. Расхождение в результатах оценивания двумя экспертами ответа на одно из заданий 22, 24–31 заключается в том, что один эксперт указал на отсутствие ответа на задание в экзаменационной работе, а другой эксперт выставил за выполнение этого задания ненулевой балл. В этом случае третий эксперт проверяет только ответы на задания, которые были оценены со столь существенным расхождением. Ситуации, при которых один эксперт указал на отсутствие ответа в экзаменационной работе, а второй эксперт выставил нулевой балл за выполнение этого задания, не являются ситуациями существенного расхождения в оценивании.