

«УТВЕРЖДАЮ»
Руководитель Департамента
общего и дошкольного образования
Минобразования России

_____ **А.В.Баранников**

«_____» _____ **2003 г.**

Единый государственный экзамен по ГЕОГРАФИИ
Демонстрационный вариант 2004 г

Инструкция по выполнению работы

На выполнение экзаменационной работы по географии отводится 3 часа (180 минут). Работа состоит из 50 заданий, которые разделены на три части.

Часть 1 содержит 32 задания (А1 – А32) с выбором ответа. К каждому заданию дается 4 варианта ответа, только один из которых верный.

Часть 2 содержит 12 заданий (В1 – В12), на которые надо дать краткий ответ в виде числа или последовательности букв. В этой части используются задания на установление соответствия или последовательности, на выбор нескольких правильных ответов из предложенных, а также задания, в которых требуется самостоятельно записать правильный ответ.

Часть 3 включает 6 заданий с развернутым ответом (С1 – С6), в которых требуется записать полный ответ на поставленный вопрос.

Внимательно прочитайте каждое задание и предлагаемые варианты ответа, если они имеются. Отвечайте только после того, как вы поняли вопрос и проанализировали все варианты ответа.

Выполняйте задания в том порядке, в котором они даны. Если какое-то задание вызывает у вас затруднение, пропустите его и постарайтесь выполнить те, в ответах на которые вы уверены. К пропущенным заданиям можно будет вернуться, если у вас останется время.

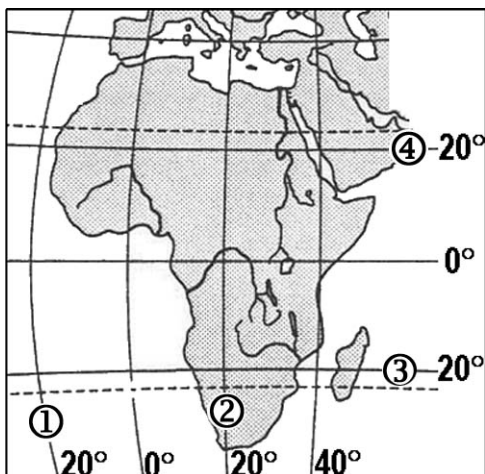
За выполнение различных по сложности заданий дается один или более баллов. Баллы, полученные вами за выполненные задания, суммируются. Постарайтесь выполнить как можно больше заданий и набрать наибольшее количество баллов.

Желаем успеха!

Часть 1

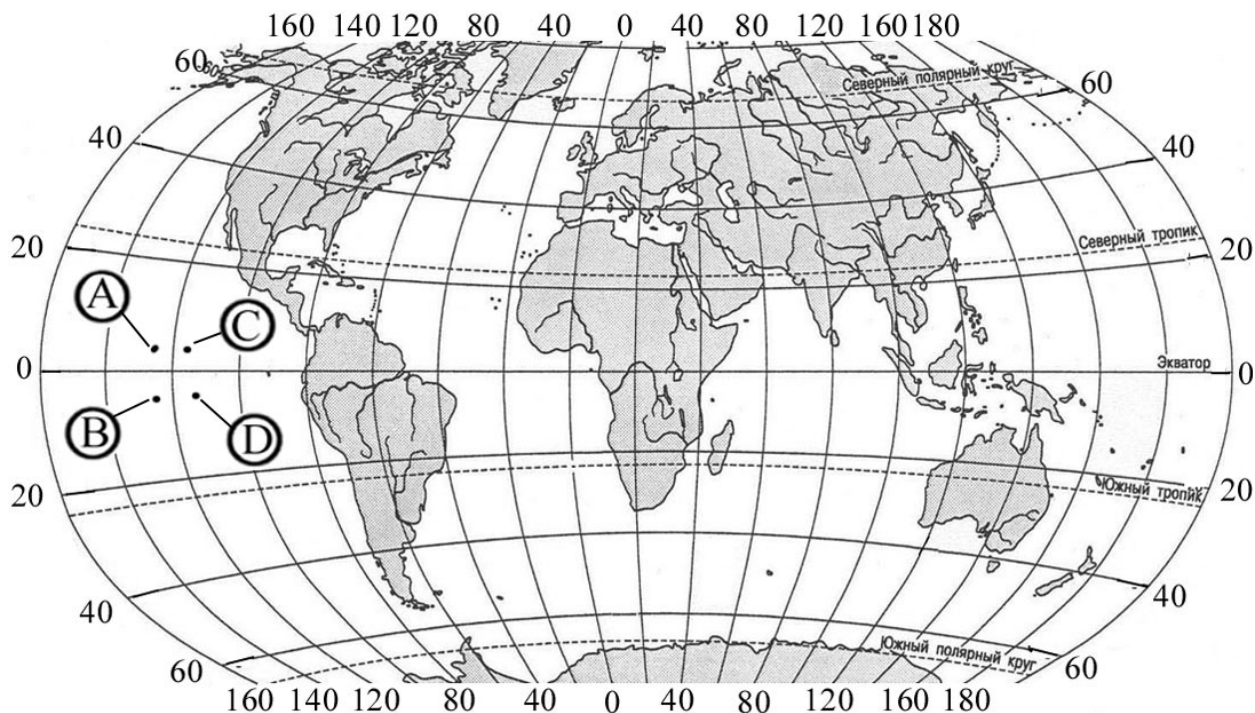
При выполнении заданий этой части в бланке ответов № 1 под номером выполняемого вами задания (A1–A32) поставьте знак « X » в клеточку, номер которой соответствует номеру выбранного вами ответа.

A1 Какой цифрой обозначена на карте Африки параллель 20° с.ш.?



- 1) 1 2) 2 3) 3 4) 4

A2 Какая из обозначенных на карте мира точек имеет географические координаты 5° с.ш. и 115° з.д.?

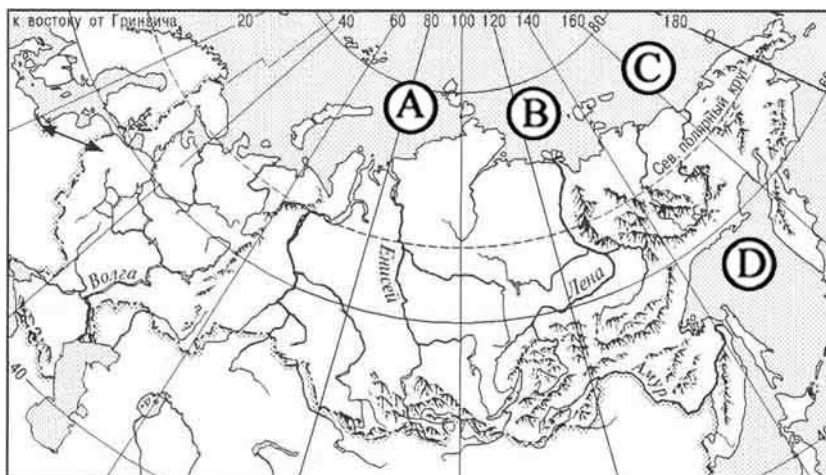


- 1) A 2) B 3) C 4) D

A3 Солнце бывает в зените на параллели

- 1) 15°
- 2) 30°
- 3) 45°
- 4) 60°

A4 Какой буквой на карте России обозначено Охотское море?



- 1) A
- 2) B
- 3) C
- 4) D

A5 Дюны относятся к формам рельефа, созданным

- 1) ветровыми процессами
- 2) текучими водами
- 3) деятельностью ледников
- 4) вулканической деятельностью

A6 Какое из следующих утверждений об атмосфере является верным?

- 1) В верхних слоях атмосферы давление выше, чем в тропосфере.
- 2) В составе атмосферы кислорода больше, чем азота.
- 3) Ветер возникает из-за разницы атмосферного давления.
- 4) В экваториальных широтах преобладает повышенное атмосферное давление.

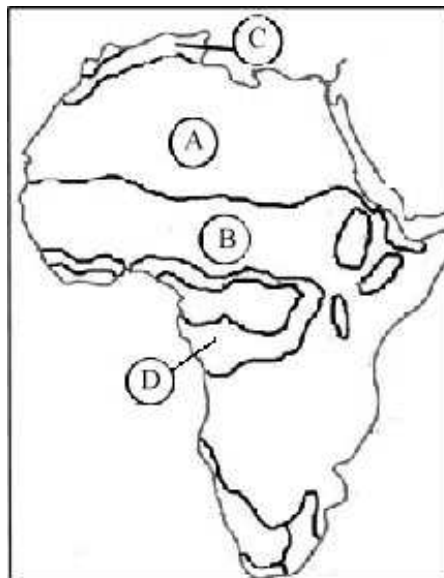
A7 Эндемиком Северной Америки является

- 1) бурый медведь
- 2) скунс
- 3) ягуар
- 4) гепард

A8

Какой буквой обозначена на карте Африки природная зона полупустынь и пустынь?

- 1) А
- 2) В
- 3) С
- 4) D

**A9**

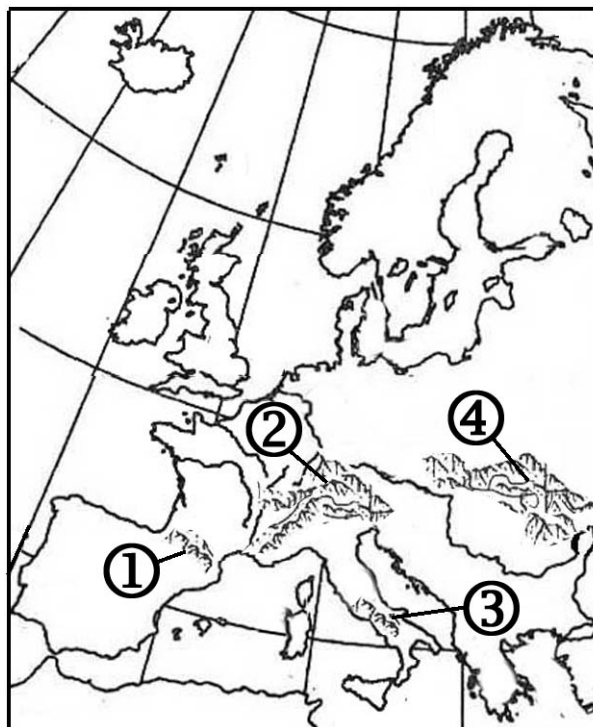
Остров Тасмания расположен у берегов

- 1) Австралии
- 2) Африки
- 3) Южной Америки
- 4) Евразии

A10

Какие горы обозначены на карте Европы цифрой 1?

- 1) Альпы
- 2) Апеннины
- 3) Карпаты
- 4) Пиренеи

**A11**

Большая часть Австралии находится в климатическом поясе

- 1) субтропическом
- 2) тропическом
- 3) субэкваториальном
- 4) экваториальном

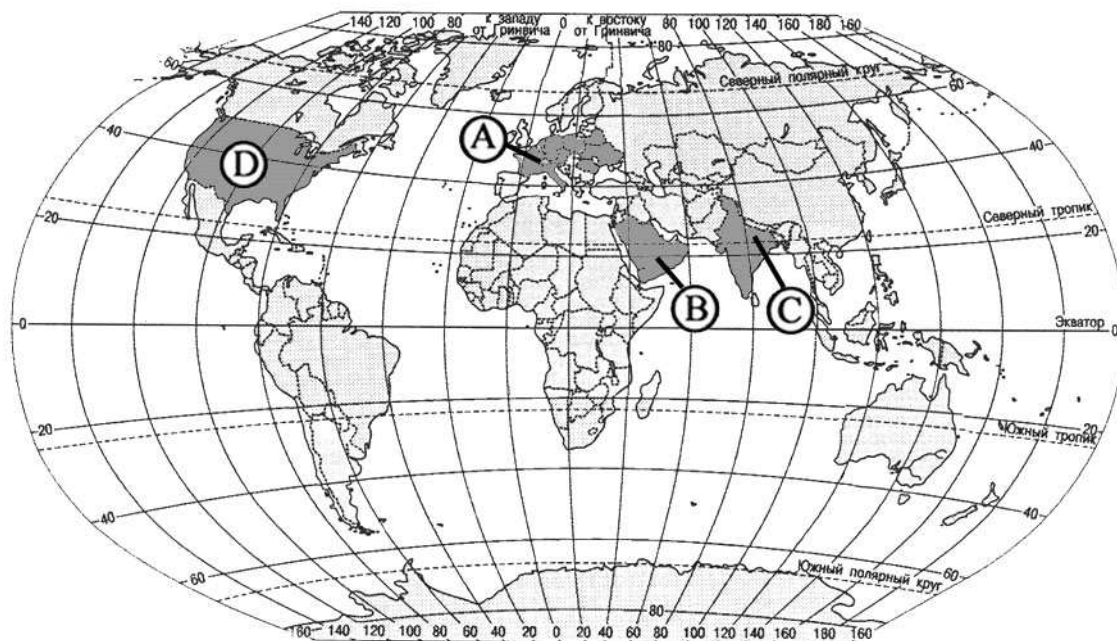
A12

Отрицательный естественный прирост населения (– 2 человека на 1 тыс. жителей) характерен для региона

- 1) Северная Африка
- 2) Юго-Западная Азия
- 3) Австралия и Океания
- 4) Восточная Европа

A13

Какая из обозначенных буквами на карте мира территорий имеет наименьшую плотность населения?



- 1) A
- 2) B
- 3) C
- 4) D

A14

В какой из перечисленных стран ВВП на душу населения наибольший?

- 1) Франции
- 2) Индии
- 3) Латвии
- 4) Китае

A15 В структуре мировой промышленности ведущее место как по числу занятых в производстве, так и по стоимости продукции занимает

- 1) электроэнергетика
- 2) химическая промышленность
- 3) машиностроение
- 4) металлургия

A16 Экстенсивное сельское хозяйство характерно для

- 1) Монголии и Бангладеш
- 2) Дании и Швеции
- 3) ФРГ и Франции
- 4) США и Канады

A17 Россия занимает первое место в мире по

- 1) запасам природного газа
- 2) добыче нефти
- 3) производству электроэнергии
- 4) запасам нефти

A18 Ресурсообеспеченность – это

- 1) общая добыча минеральных полезных ископаемых за год
- 2) объем достоверных запасов данного вида природных ресурсов
- 3) соотношение запасов природных ресурсов и масштабов их использования
- 4) геологически прогнозируемые новые месторождения

A19 Для какого моря наиболее характерно нефтяное загрязнение?

- 1) Восточно-Сибирского
- 2) Северного
- 3) Лаптевых
- 4) Гренландского

A20 Государство Боливия расположено в

- 1) Центральной Африке
- 2) Южной Америке
- 3) Юго-Западной Азии
- 4) Юго-Восточной Азии

A21 Абсолютная монархия среди перечисленных стран –

- 1) Дания
- 2) Оман
- 3) Марокко
- 4) Нидерланды

A22 К какой языковой группе относится наибольшая часть населения стран Восточной Европы?

- 1) германской
- 2) славянской
- 3) балтийской
- 4) романской

A23 Государственным языком в Мексике является

- 1) португальский
- 2) испанский
- 3) мексиканский
- 4) английский

A24 Среди государств СНГ первое место по добыче угля занимает

- 1) Украина
- 2) Россия
- 3) Казахстан
- 4) Узбекистан

A25 Республика Бурятия расположена в (на)

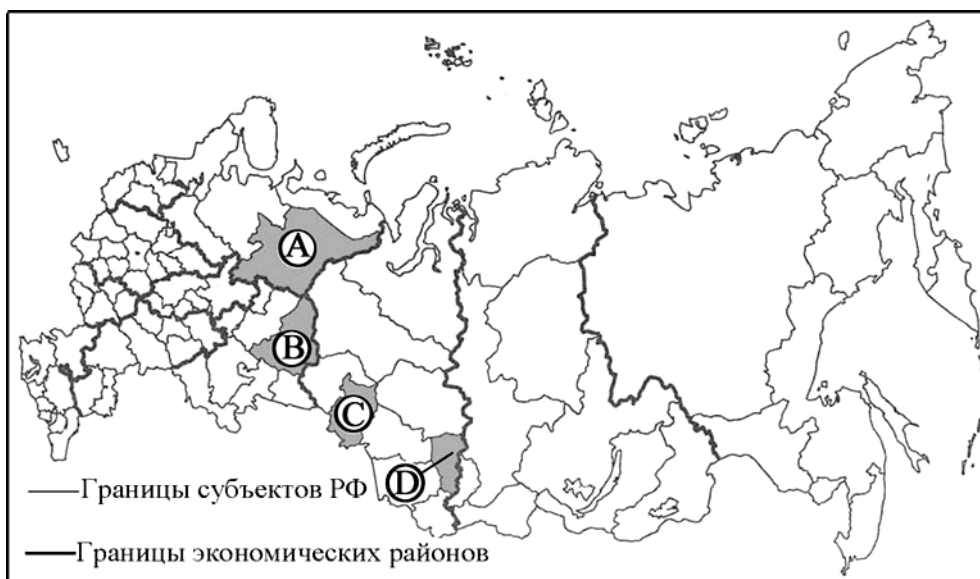
- 1) Кавказе
- 2) Поволжье
- 3) Урале
- 4) Сибири

A26 Одним из трёх крупнейших по численности народов России являются

- 1) буряты
- 2) башкиры
- 3) татары
- 4) якуты

A27

Какой из показанных на карте России регионов имеет наименьшую среднюю плотность населения?



1) A

2) B

3) C

4) D

A28

Какая отрасль лесной промышленности ориентирована на потребителя?

- 1) лесопиление
- 2) лесохимия
- 3) мебельное производство
- 4) целлюлозно-бумажное производство

A29

Незамерзающий порт России –

- 1) Санкт-Петербург
- 2) Петропавловск-Камчатский
- 3) Архангельск
- 4) Мурманск

A30

Европейский Север обладает большими запасами

- 1) олова
- 2) серебра
- 3) золота
- 4) угля

A31

Коренным народом Западной Сибири являются

- 1) башкиры
- 2) марийцы
- 3) татары
- 4) ханты

A32

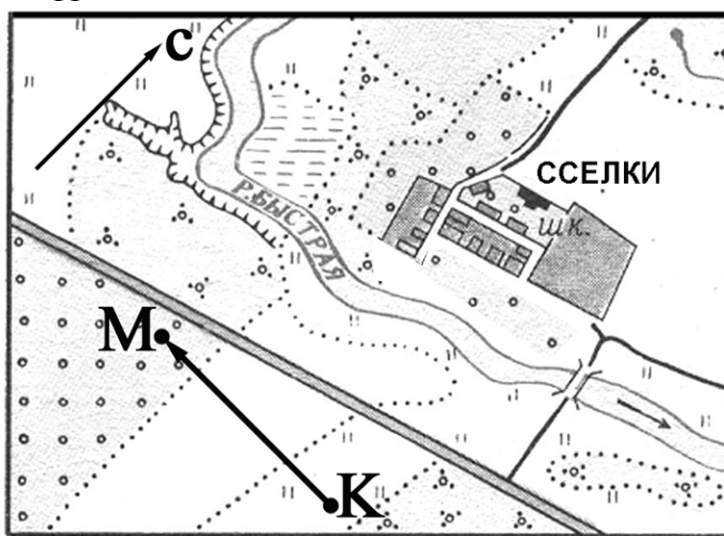
Отраслью специализации Центрально-Черноземного района является

- 1) целлюлозно-бумажная промышленность
- 2) цветная металлургия
- 3) пищевая промышленность
- 4) топливная промышленность

Часть 2

Ответом к заданиям этой части (В1 – В12) является последовательность букв или число. Впишите ответы сначала в текст работы, а затем перенесите их в бланк ответов № 1 справа от номера соответствующего задания, начиная с первой клеточки, без пробелов и других символов. Каждую цифру или букву пишите в отдельной клеточке в соответствии с приведенными образцами.

- В1** По какому азимуту нужно идти, чтобы попасть из точки К в точку М? Ответ запишите цифрами.



Ответ: _____ градусов.

- В2** Выберите из предложенного списка названия трех крупных месторождений газа в России.

- А) Коршуновское
- Б) Медвежье
- В) Усть-Балыкское
- Г) Уренгойское
- Д) Качканарское
- Е) Ямбургское

Буквы, соответствующие выбранным ответам, запишите в алфавитном порядке без пропусков и знаков препинания.

Ответ: _____.

- В3** Установите соответствие между республикой Российской Федерации и ее столицей.

- | | |
|-------------|-----------------|
| РЕСПУБЛИКА | СТОЛИЦА |
| 1) Адыгея | А) Петрозаводск |
| 2) Башкирия | Б) Майкоп |
| 3) Карелия | В) Чебоксары |
| | Г) Уфа |

Запишите в таблицу буквы, соответствующие выбранным ответам.

1	2	3

В4

Выберите три города, являющихся крупными центрами производства алюминия в России.

- А) Волгоград
- Б) Новосибирск
- В) Братск
- Г) Саяногорск
- Д) Таганрог
- Е) Екатеринбург

Буквы, соответствующие выбранным ответам, запишите в алфавитном порядке без пропусков и знаков препинания.

Ответ: _____.

В5

Установите соответствие между отраслью специализации Урала и ее крупным центром.

- | | |
|--------------------------------|------------------|
| ОТРАСЛЬ СПЕЦИАЛИЗАЦИИ | ЦЕНТР |
| 1) черная металлургия | А) Красноуральск |
| 2) цветная металлургия | Б) Миасс |
| 3) химия органического синтеза | В) Новотроицк |
| | Г) Пермь |

Запишите в таблицу буквы, соответствующие выбранным ответам.

1	2	3

В6

Выберите из предложенного списка три страны, которые в прошлом были колониями Великобритании.

- А) Индонезия
- Б) Ангола
- В) Мьянма
- Г) Мали
- Д) Пакистан
- Е) Индия

Буквы, соответствующие выбранным ответам, запишите в алфавитном порядке без пропусков и знаков препинания.

Ответ: _____.

В7

Установите соответствие между страной и ее столицей.

СТРАНА	СТОЛИЦА
1) Вьетнам	А) Анкара
2) Турция	Б) Вьентьян
3) Лаос	В) Ханой
	Г) Пномпень

Запишите в таблицу буквы, соответствующие выбранным ответам.

1	2	3

В8

Выберите три отрасли специализации хозяйства Швеции.

- А) железорудная промышленность
- Б) нефтедобывающая промышленность
- В) автомобилестроение
- Г) выращивание пшеницы
- Д) овцеводство
- Е) морской транспорт

Буквы, соответствующие выбранным ответам, запишите в алфавитном порядке без пропусков и знаков препинания.

Ответ: _____.

В9

Выберите страны, занимающие первые три места в мире по производству стали.

- А) США
- Б) Германия
- В) Япония
- Г) Китай
- Д) Индия
- Е) Россия

Буквы, соответствующие выбранным ответам, запишите в алфавитном порядке без пропусков и знаков препинания.

Ответ: _____.

B10

Выберите из предложенного списка три страны, являющиеся членами блока НАТО.

- А) Греция
- Б) Израиль
- В) Италия
- Г) Франция
- Д) Швеция
- Е) Япония

Буквы, соответствующие выбранным ответам, запишите в алфавитном порядке без пропусков и знаков препинания.

Ответ: _____.

B11

Расположите перечисленные страны в порядке возрастания в них естественного прироста (на 1 тысячу жителей).

- А) США
- Б) Дания
- В) Кувейт
- Г) Бразилия

Запишите в таблицу получившуюся последовательность букв.

--	--	--	--

B12

Установите соответствие между количеством и режимом выпадения осадков и территорией, для которой они характерны.

СРЕДНЕГОДОВОЕ КОЛИЧЕСТВО
ОСАДКОВ И РЕЖИМ ИХ
ВЫПАДЕНИЯ

ТЕРРИТОРИЯ

- | | |
|-----------------------------------|----------------------------------|
| 1) 500 – 800 мм, максимум зимой | А) среднее течение реки Амазонки |
| 2) 1000 – 2000 мм, максимум летом | Б) среднее течение реки Волги |
| 3) 2000 – 3000 мм, равномерное | В) Корейский полуостров |
| | Г) острова Сицилия, Сардиния |

Запишите в таблицу буквы, соответствующие выбранным ответам.

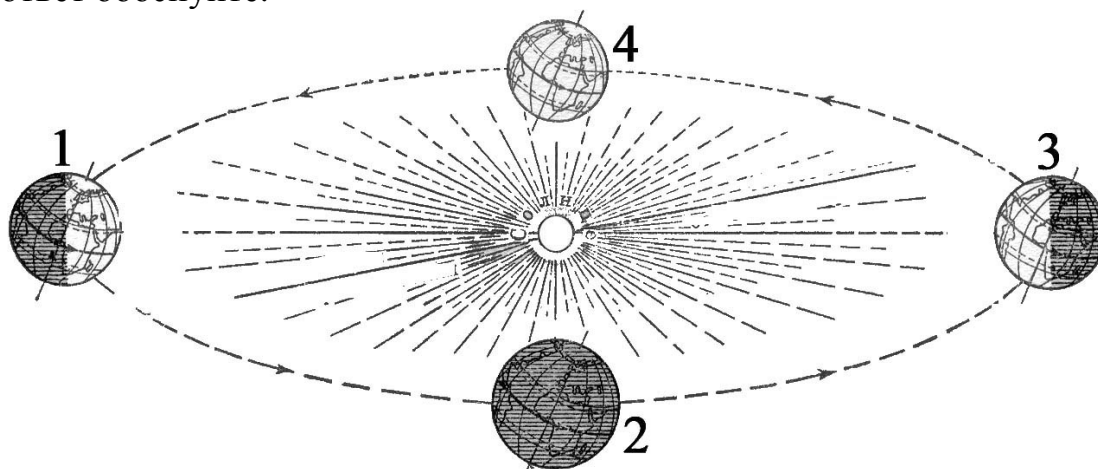
1	2	3

Не забудьте перенести все ответы в бланк ответов № 1

Часть 3

Для ответов на задания этой части (С1 – С6) используйте бланк ответов № 2. Запишите сначала номер задания (С1 и т.д.), а затем не только ответ на поставленный вопрос, но и весь ход ваших рассуждений. Ответы записывайте разборчиво.

- С1** Определите страну по ее краткому описанию.
Это государство с самой маленькой площадью территории и минимальным числом жителей, уникальное по форме правления. Здесь имеется свое правительство, банк, гвардия, законы. Сфера деятельности этого государства – весь мир.
- С2** Почему природная зона степей в Волгоградской области сменяется пустынями и полупустынями в Астраханской? Укажите не менее двух причин.
- С3** В таких странах, как Республика Корея, Япония, доля электроэнергии, вырабатываемой на АЭС, больше, чем во многих других развитых странах. Чем это можно объяснить? Укажите не менее двух причин.
- С4** Чем объяснить, что показатель отношения численности пожилых людей (старше 60 лет) к численности детей (младше 14 лет) в Германии почти в двадцать раз превосходит этот же показатель в Замбии? Укажите не менее двух причин.
- С5** На какой из параллелей: 30° с. ш., 10° с. ш., на экваторе, 10° ю. ш., 30° ю. ш. – Солнце в полдень будет находиться ниже всего над горизонтом в день, когда Земля находится на орбите в положении, показанном на рисунке цифрой 1? Свой ответ обоснуйте.



С6

Почему в Воронежской области водная эрозия почв представляет большую опасность, чем в Астраханской области? Укажите не менее двух причин.

Инструкция по проверке и оценке работ учащихся по географии**Часть 1**

№ задания	Ответ	№ задания	Ответ
A1	4	A17	1
A2	3	A18	3
A3	1	A19	2
A4	4	A20	2
A5	1	A21	2
A6	3	A22	2
A7	2	A23	2
A8	1	A24	2
A9	1	A25	4
A10	4	A26	3
A11	2	A27	1
A12	4	A28	3
A13	2	A29	4
A14	1	A30	4
A15	3	A31	4
A16	1	A32	3

Часть 2

B1	270
B2	БГЕ
B3	БГА
B4	АВГ
B5	ВАГ
B6	ВДЕ
B7	ВАБ
B8	АВЕ
B9	АВГ
B10	АВГ
B11	БАГВ
B12	ГВА

Часть 3**C1**

Определите страну по ее краткому описанию.

Это государство с самой маленькой площадью территории и минимальным числом жителей – уникальное по форме правления. Здесь имеется свое правительство, банк, гвардия, законы, валюта. Сфера деятельности этого государства – весь мир.

Элементы содержания верного ответа (допускаются иные формулировки ответа, не искажающие его смысла)	<i>Баллы</i>
1) Ватикан	
Указания к оцениванию	
Правильно названа страна	1
Верный ответ отсутствует или наряду с правильным ответом присутствует неправильный, и нет точного указания на правильный ответ	0
<i>Максимальный балл</i>	<i>1</i>

C2

Почему природная зона степей в Волгоградской области сменяется пустынями и полупустынями в Астраханской? Укажите не менее двух причин.

Содержание верного ответа и указания к оцениванию (допускаются иные формулировки ответа, не искажающие его смысла)	Баллы
1) Уменьшение количества осадков при движении на юг, ИЛИ в Астраханской области выпадает меньше осадков	
2) Климат при движении на юго-восток становится жарче, ИЛИ лето в Астраханской области жарче	
Указания к оцениванию	
Ответ включает оба названных выше элемента	2
Ответ включает один (любой) из названных выше элементов	1
Все вышеперечисленные элементы отсутствуют	0
<i>Максимальный балл</i>	2

С3

В таких странах, как Республика Корея, Япония, доля электроэнергии, вырабатываемой на АЭС, больше, чем во многих других развитых странах. Чем это можно объяснить? Укажите не менее двух причин.

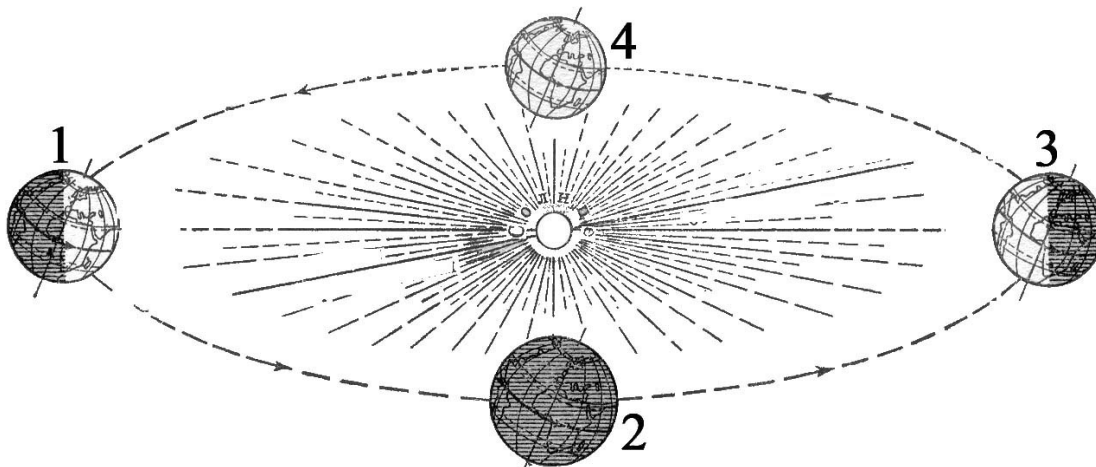
Элементы содержания верного ответа (допускаются иные формулировки ответа, не искажающие его смысла)	<i>Баллы</i>
1) собственные топливные ресурсы в этих странах практически отсутствуют	
2) гидроэнергетический потенциал рек невелик ИЛИ недостаточно собственных энергетических ресурсов	
Указания к оцениванию	
Ответ включает оба названных выше элемента	2
Ответ включает один (любой) из названных выше элементов	1
Все вышеперечисленные элементы отсутствуют	0
<i>Максимальный балл</i>	2

C4

Чем объяснить, что показатель отношения численности пожилых людей (старше 60 лет) к численности детей (младше 14 лет) в Германии почти в двадцать раз превосходит этот же показатель в Замбии? Укажите не менее двух причин.

Элементы содержания верного ответа (допускаются иные формулировки ответа, не искажающие его смысла)	<i>Баллы</i>
1) высокая рождаемость в Замбии ИЛИ низкая рождаемость в Германии ИЛИ разные типы воспроизводства населения	
2) высокая средняя продолжительность жизни в Германии ИЛИ низкая средняя продолжительность жизни в Замбии	
Указания к оцениванию	
Ответ включает оба названных выше элемента	2
Ответ включает один (любой) из названных выше элементов	1
Все вышеперечисленные элементы отсутствуют	0
<i>Максимальный балл</i>	2

C5 На какой из параллелей: 30° с. ш., 10° с. ш., на экваторе, 10° ю. ш., 30° ю. ш. – Солнце в полдень будет находиться ниже всего над горизонтом в день, когда Земля находится на орбите в положении, показанном на рисунке цифрой 1? Свой ответ обоснуйте.



Элементы содержания верного ответа (допускаются иные формулировки ответа, не искажающие его смысла)	Баллы
1) параллель 30° ю.ш. 2) в этот день Солнце находится в зените над Северным тропиком ИЛИ это день летнего солнцестояния. 3) полуденная высота Солнца на любой параллели зависит от удаленности от параллели, на которой в этот день Солнце стоит в зените ИЛИ параллель 30° ю.ш. расположена дальше всего от Северного тропика.	
Указания к оцениванию	
Ответ включает все три названных выше элемента	2
Ответ включает два (1-й и 2-й или 1-й и 3-й) из названных выше элементов	1
Ответ включает один (любой) из названных выше элементов ИЛИ все вышеперечисленные элементы отсутствуют	0
<i>Максимальный балл</i>	2

С6

Почему в Воронежской области водная эрозия почв представляет большую опасность, чем в Астраханской области? Укажите не менее двух причин.

Элементы содержания верного ответа (допускаются иные формулировки ответа, не искажающие его смысла)	Баллы
1) в Воронежской области количество осадков больше, чем в Астраханской. 2) в Воронежской области перепады высот больше, чем в Астраханской. 3) в Воронежской области степень распаханности территории больше, чем в Астраханской.	
Указания к оцениванию	
Ответ включает все три или два любых из названных выше элементов.	2
Ответ включает один (любой) из названных выше элементов.	1
Все вышеперечисленные элементы отсутствуют	0
<i>Максимальный балл</i>	2